

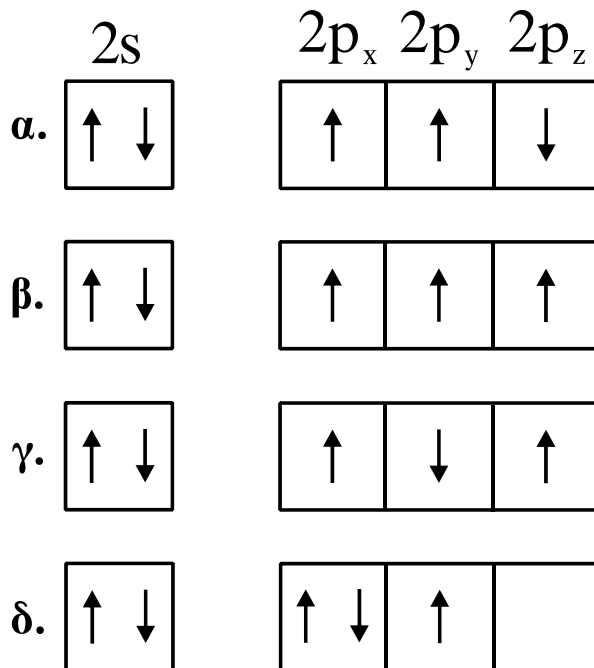
ΑΡΧΗ 1ΗΣ ΣΕΛΙΔΑΣ

**ΑΠΟΛΥΤΗΡΙΕΣ ΕΞΕΤΑΣΕΙΣ Γ' ΤΑΞΗΣ
 ΗΜΕΡΗΣΙΟΥ ΓΕΝΙΚΟΥ ΛΥΚΕΙΟΥ
 ΠΑΡΑΣΚΕΥΗ 28 ΜΑΪΟΥ 2010
 ΕΞΕΤΑΖΟΜΕΝΟ ΜΑΘΗΜΑ: ΧΗΜΕΙΑ
 ΘΕΤΙΚΗΣ ΚΑΤΕΥΘΥΝΣΗΣ
 ΣΥΝΟΛΟ ΣΕΛΙΔΩΝ: ΕΞΙ (6)**

ΘΕΜΑ Α

Για τις ερωτήσεις Α1 έως και Α4 να γράψετε στο τετράδιό σας τον αριθμό της ερώτησης και δίπλα το γράμμα που αντιστοιχεί στη σωστή απάντηση.

Α1. Η ηλεκτρονιακή δομή, στη θεμελιώδη κατάσταση, της εξωτερικής στιβάδας του ${}^7\text{N}$ είναι:



Μονάδες 5

Α2. Ο σχηματισμός του διπλού δεσμού μεταξύ δύο ατόμων άνθρακα δημιουργείται με επικάλυψη:

- α.** sp^2-sp^2 και $p-p$ τροχιακών.
- β.** sp^2-sp^3 και $p-p$ τροχιακών.
- γ.** $sp-sp$ και $p-p$ τροχιακών.
- δ.** sp^3-sp^3 και $p-p$ τροχιακών.

Μονάδες 5

ΑΡΧΗ 2ΗΣ ΣΕΛΙΔΑΣ

A3. Το συζυγές οξύ του NH_2^- είναι:

- α.** NH_3
- β.** NH_4^+
- γ.** NH_2OH
- δ.** NO_2^-

Μονάδες 5

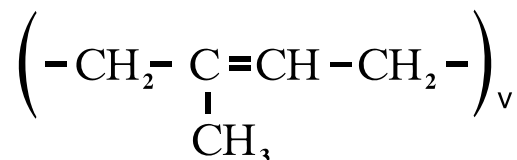
A4. Ποια από τις επόμενες ουσίες, όταν διαλυθεί στο νερό, δεν αλλάζει το pH του;

- α.** CH_3COOK
- β.** NaF
- γ.** NH_4Cl
- δ.** $\text{Ca}(\text{NO}_3)_2$

Μονάδες 5

A5. Να χαρακτηρίσετε τις προτάσεις που ακολουθούν, γράφοντας στο τετράδιό σας δίπλα στο γράμμα που αντιστοιχεί σε κάθε πρόταση, τη λέξη **Σωστό**, αν η πρόταση είναι σωστή, ή **Λάθος**, αν η πρόταση είναι λανθασμένη.

- α.** Τα s τροχιακά έχουν σφαιρική συμμετρία.
- β.** Το $(\text{COONa})_2$ οξειδώνεται από το KMnO_4 με την παρουσία H_2SO_4 .
- γ.** Για την ογκομέτρηση ισχυρού οξέος με ισχυρή βάση, κατάλληλος δείκτης είναι αυτός με $\text{pK}_a=2$.
- δ.** Το pH υδατικού διαλύματος H_2SO_4 0,1M είναι 1.
- ε.** Με πολυμερισμό της ένωσης 1,3-βουταδιένιο προκύπτει το πολυμερές:



Μονάδες 5

ΑΡΧΗ 3ΗΣ ΣΕΛΙΔΑΣ

ΘΕΜΑ Β

B1. Δίνονται τα στοιχεία $_{20}\text{Ca}$, $_{26}\text{Fe}$, $_{16}\text{S}$.

- α.** Να γράψετε τις ηλεκτρονιακές δομές τους (κατανομή ηλεκτρονίων σε υποστιβάδες). (μονάδες 3)
- β.** Να βρεθεί η περίοδος και η ομάδα του περιοδικού πίνακα στην οποία ανήκει το καθένα από τα στοιχεία αυτά. (μονάδες 6)

Μονάδες 9

B2. Να αιτιολογήσετε τις επόμενες προτάσεις:

- α.** Η 2^η ενέργεια ιοντισμού ενός ατόμου είναι πάντα μεγαλύτερη από την 1^η ενέργεια ιοντισμού του.
- β.** Το pH του καθαρού νερού στους 80°C είναι μικρότερο του 7.
- γ.** Σε κάθε τροχιακό δεν μπορούμε να έχουμε περισσότερα από 2 ηλεκτρόνια.
- δ.** Σε μια περίοδο του περιοδικού πίνακα, η ατομική ακτίνα ελαττώνεται από αριστερά προς τα δεξιά.
- ε.** Τα αντιδραστήρια Grignard παρασκευάζονται σε απόλυτο αιθέρα.

Μονάδες 10

B3. Κάθε μία από τις ενώσεις: πεντάνιο, 1-πεντένιο και 1-πεντίνιο, περιέχεται αντίστοιχα σε τρεις διαφορετικές φιάλες.

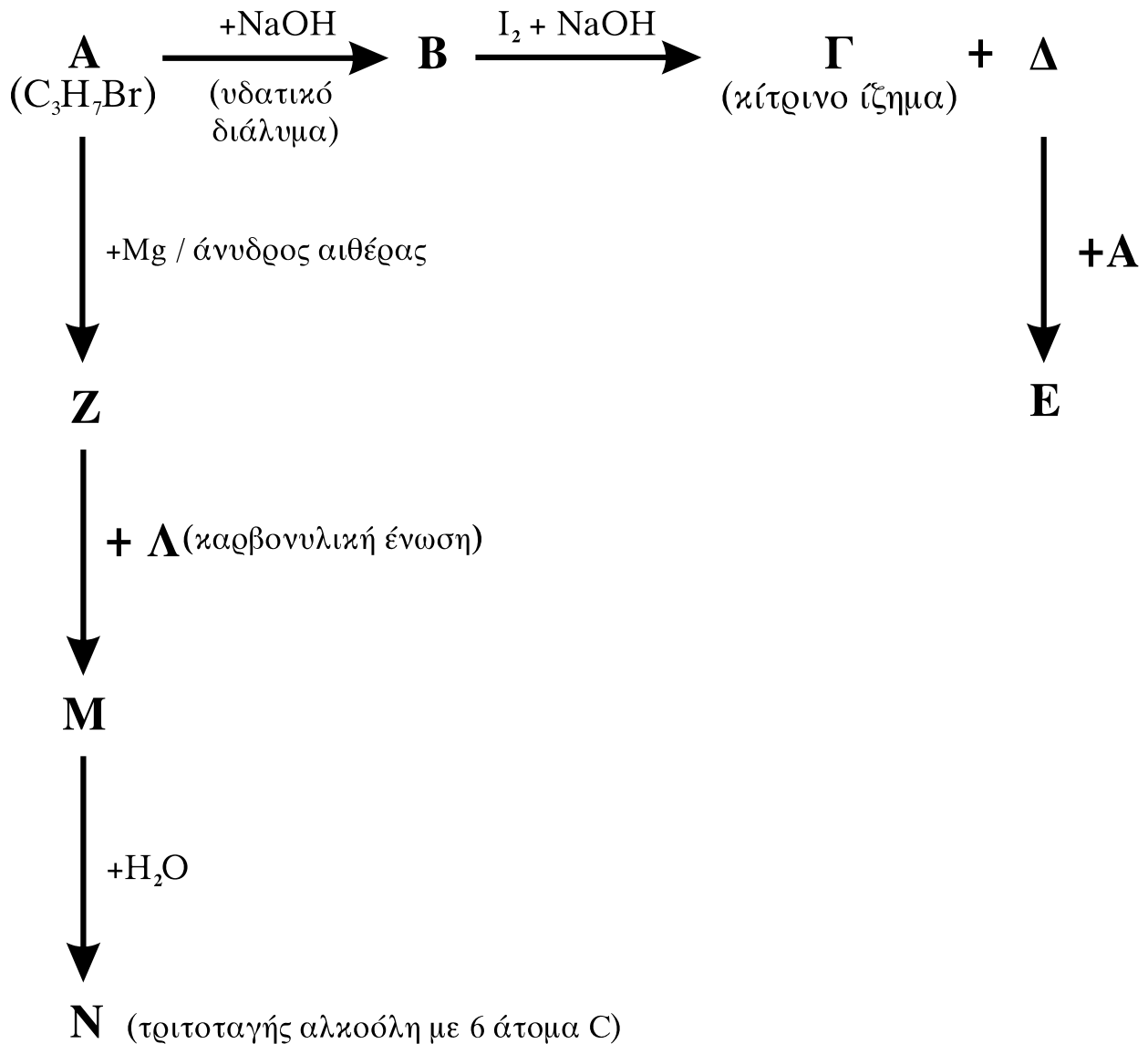
Πώς θα ταυτοποιήσετε το περιεχόμενο κάθε φιάλης; Να γράφουν οι αντίστοιχες χημικές εξισώσεις.

Μονάδες 6

ΑΡΧΗ 4ΗΣ ΣΕΛΙΔΑΣ

ΘΕΜΑ Γ

Γ1. Δίνονται οι παρακάτω χημικές μετατροπές:



Να γράψετε τους συντακτικούς τύπους των οργανικών ενώσεων Α, Β, Γ, Δ, Ε, Ζ, Λ, Μ, Ν.

Μονάδες 18

Γ2. Ισομοριακό μείγμα τριών καρβονυλικών ενώσεων του τύπου $\text{C}_4\text{H}_8\text{O}$, με επίδραση αντιδραστηρίου Fehling, δίνει 2,86g ιζήματος (Cu_2O). Να βρεθούν τα mol των συστατικών του μείγματος.

Δίνονται οι σχετικές ατομικές μάζες του $\text{Cu}=63,5$ και του $\text{O}=16$.

Μονάδες 7

ΑΡΧΗ 5ΗΣ ΣΕΛΙΔΑΣ

ΘΕΜΑ Δ

Διαθέτουμε υδατικά διαλύματα CH_3COOH 0,1M (διάλυμα Y_1) και CH_3COOH 0,2M (διάλυμα Y_2).

Δ1. Να βρεθεί πόσα mL H_2O πρέπει να προστεθούν σε 100mL διαλύματος Y_1 , ώστε να τριπλασιαστεί ο βαθμός ιοντισμού του CH_3COOH ;

Μονάδες 6

Δ2. Σε 100 mL διαλύματος Y_2 προσθέτουμε 100 mL διαλύματος NaOH 0,1M, οπότε προκύπτει διάλυμα Y_3 . Να βρεθεί το pH του διαλύματος Y_3 .

Μονάδες 6

Δ3. Σε 100 mL διαλύματος Y_2 προσθέτουμε 100 mL διαλύματος NaOH 0,2M, οπότε προκύπτει διάλυμα Y_4 . Να βρεθεί το pH του διαλύματος Y_4 .

Μονάδες 6

Δ4. Να βρεθεί πόσα mL διαλύματος NaOH 0,1M πρέπει να προστεθούν σε 101 mL του διαλύματος Y_2 , ώστε να προκύψει διάλυμα Y_5 με $\text{pH}=7$;

Μονάδες 7

Δίνεται ότι:

- Όλα τα διαλύματα βρίσκονται σε θερμοκρασία $\theta=25^\circ\text{C}$,
 $K_a(\text{CH}_3\text{COOH})=10^{-5}$, $K_w=10^{-14}$
- Κατά την ανάμειξη των διαλυμάτων δεν προκύπτει μεταβολή των όγκων των διαλυμάτων.
- Τα δεδομένα του προβλήματος επιτρέπουν τις γνωστές προσεγγίσεις.

ΑΡΧΗ 6ΗΣ ΣΕΛΙΔΑΣ

ΟΔΗΓΙΕΣ ΓΙΑ ΤΟΥΣ ΕΞΕΤΑΖΟΜΕΝΟΥΣ

1. Στο τετράδιο να γράψετε **μόνον** τα προκαταρκτικά (ημερομηνία, κατεύθυνση, εξεταζόμενο μάθημα). **Να μην αντιγράψετε** τα θέματα στο τετράδιο.
2. Να γράψετε το ονοματεπώνυμό σας στο πάνω μέρος των φωτοαντιγράφων, αμέσως μόλις σας διανεμηθούν. **Καμιά άλλη σημείωση δεν επιτρέπεται να γράψετε.** Κατά την αποχώρησή σας να παραδώσετε μαζί με το τετράδιο και τα φωτοαντίγραφα.
3. Να απαντήσετε **στο τετράδιό σας σε όλα** τα θέματα.
4. Να γράψετε τις απαντήσεις σας **μόνο με μπλε ή μόνο με μαύρο στυλό διαρκείας και μόνον ανεξίτηλης μελάνης.**
5. **Να μη** χρησιμοποιήσετε τη **μιλιμετρέ** σελίδα του τετραδίου σας.
6. Κάθε απάντηση επιστημονικά τεκμηριωμένη είναι αποδεκτή.
7. Διάρκεια εξέτασης: τρεις (3) ώρες μετά τη διανομή των φωτοαντιγράφων.
8. Χρόνος δυνατής αποχώρησης: 10.00 π.μ.

ΚΑΛΗ ΕΠΙΤΥΧΙΑ

ΤΕΛΟΣ ΜΗΝΥΜΑΤΟΣ