

ΑΡΧΗ 1ΗΣ ΣΕΛΙΔΑΣ**ΕΙΣΑΓΩΓΙΚΕΣ ΕΞΕΤΑΣΕΙΣ ΤΕΚΝΩΝ ΕΛΛΗΝΩΝ ΤΟΥ ΕΞΩΤΕΡΙΚΟΥ  
ΚΑΙ ΤΕΚΝΩΝ ΕΛΛΗΝΩΝ ΥΠΑΛΛΗΛΩΝ ΠΟΥ ΥΠΗΡΕΤΟΥΝ ΣΤΟ ΕΞΩΤΕΡΙΚΟ****ΤΡΙΤΗ 12 ΣΕΠΤΕΜΒΡΙΟΥ 2023****ΕΞΕΤΑΖΟΜΕΝΟ ΜΑΘΗΜΑ: ΦΥΣΙΚΗ ΠΡΟΣΑΝΑΤΟΛΙΣΜΟΥ****ΣΥΝΟΛΟ ΣΕΛΙΔΩΝ: ΟΚΤΩ (8)****ΘΕΜΑ Α**

Στις ερωτήσεις **A1-A4** να γράψετε στο τετράδιό σας τον αριθμό της ερώτησης και δίπλα το γράμμα που αντιστοιχεί στη φράση η οποία συμπληρώνει σωστά την ημιτελή πρόταση.

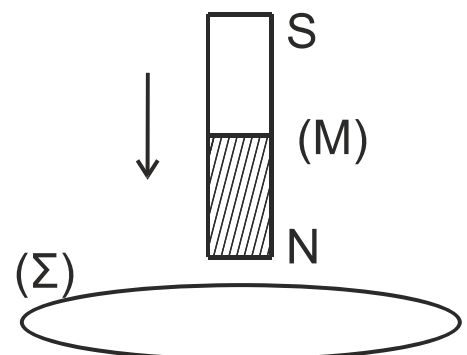
- A1.** Η ενοποιημένη ηλεκτρομαγνητική θεωρία του Maxwell ερμήνευσε με επιτυχία:
- α) το φωτοηλεκτρικό φαινόμενο.
  - β) το φαινόμενο της σκέδασης Compton.
  - γ) την ύπαρξη ηλεκτρομαγνητικών κυμάτων ως μηχανισμού διάδοσης της ενέργειας του ηλεκτρομαγνητικού πεδίου στο χώρο.
  - δ) την ακτινοβολία του μέλανος σώματος.

**Μονάδες 5**

- A2.** Για να υπολογίσουμε το μέτρο της έντασης του ομογενούς μαγνητικού πεδίου στο εσωτερικό σωληνοειδούς απείρου μήκους, το οποίο διαρρέεται από ρεύμα σταθερής έντασης, εφαρμόζοντας το νόμο του Ampère, λαμβάνουμε ως κλειστή διαδρομή:
- α) μια κατάλληλη κυκλική διαδρομή κάθετη στον άξονα του σωληνοειδούς.
  - β) μια κατάλληλη διαδρομή σχήματος ορθογωνίου παραλληλογράμμου με το επίπεδό του κάθετο στον άξονα του σωληνοειδούς.
  - γ) μια κατάλληλη ελλειπτική διαδρομή κάθετη στον άξονα του σωληνοειδούς.
  - δ) μια κατάλληλη διαδρομή σχήματος ορθογωνίου παραλληλογράμμου με το επίπεδό της να περιέχει τον άξονα του σωληνοειδούς.

**Μονάδες 5**

- A3.** Κατακόρυφος ραβδόμορφος μαγνήτης (M) πέφτει κατακόρυφα κατά μήκος του άξονα μιας αγώγιμης κυκλικής στεφάνης (Σ) που είναι ακλόνητα στερεωμένη σε οριζόντιο επίπεδο. Καθώς ο μαγνήτης πλησιάζει στην στεφάνη, η μαγνητική ροή που διέρχεται από τη στεφάνη:
- α) αυξάνεται.
  - β) ελαττώνεται.
  - γ) παραμένει σταθερή.
  - δ) αρχικά ελαττώνεται και στη συνέχεια αυξάνεται.

**Μονάδες 5**

ΑΡΧΗ 2ΗΣ ΣΕΛΙΔΑΣ

- A4.** Κατά μήκος δύο όμοιων χορδών 1 και 2, μεταδίδονται δύο εγκάρσια αρμονικά κύματα χωρίς απώλειες ενέργειας. Αν το κύμα στη χορδή 1 έχει διπλάσια συχνότητα και τριπλάσιο πλάτος από το κύμα στη χορδή 2, τότε:
- η ταχύτητα διάδοσης των δύο κυμάτων στις δύο χορδές είναι ίδια.
  - το μήκος κύματος του κύματος στη χορδή 2 είναι ίδιο με το μήκος κύματος του κύματος στη χορδή 1.
  - η μέγιστη ταχύτητα ταλάντωσης των σωματιδίων της χορδής 1 είναι ίδια με τη μέγιστη ταχύτητα των σωματιδίων της χορδής 2.
  - η μέγιστη επιτάχυνση ταλάντωσης των σωματιδίων της χορδής 1 είναι ίδια με τη μέγιστη ταχύτητα των σωματιδίων της χορδής 2.

**Μονάδες 5**

- A5.** Να χαρακτηρίσετε τις προτάσεις που ακολουθούν γράφοντας στο τετράδιό σας, δίπλα στο γράμμα που αντιστοιχεί σε κάθε πρόταση, τη λέξη **Σωστό**, αν η πρόταση είναι σωστή, ή τη λέξη **Λάθος**, αν η πρόταση είναι λανθασμένη.

- Όσο μεγαλύτερος είναι ο μέσος χρόνος ζωής  $\Delta t$  μιας διεγερμένης ατομικής στάθμης, τόσο μεγαλύτερη θα είναι και η αβεβαιότητα  $\Delta E$  για την ενέργειά της.
- Η τάση αποκοπής σε φωτοκύτταρο είναι ανεξάρτητη από την ένταση της ακτινοβολίας.
- Η απότομη επιβράδυνση των ηλεκτρονίων, όταν προσπίπτουν στην επιφάνεια ενός μετάλλου είναι η μοναδική αιτία εκπομπής ακτίνων X από την μεταλλική επιφάνεια.
- Παράλληλοι αγωγοί που διαρρέονται από ομόρροπα ρεύματα απωθούνται.
- Επειδή η ελκτική δύναμη που δέχεται η Γη από τον Ήλιο έχει φορέα που διέρχεται από το κέντρο μάζας της, η στροφορμή της Γης παραμένει σταθερή.

**Μονάδες 5****ΘΕΜΑ Β**

- B1.** Ένα φωτόνιο προσπίπτει σε ελεύθερο ηλεκτρόνιο με μάζα  $m$  το οποίο θεωρείται αρχικά ακίνητο. Μετά την κρούση το σκεδαζόμενο φωτόνιο έχει αυξημένο μήκος κύματος σε σχέση με το προσπίπτον κατά  $\Delta\lambda = \frac{2h}{mc}$ , όπου  $h$  η σταθερά του Planck,  $m$  η μάζα του ηλεκτρονίου και  $c$  η ταχύτητα του φωτός.
- Το σκεδαζόμενο φωτόνιο θα κινείται σε κατεύθυνση που σχηματίζει γωνία  $90^\circ$  με εκείνη του προσπίπτοντος.
  - Το σκεδαζόμενο φωτόνιο θα κινείται σε κατεύθυνση που σχηματίζει γωνία  $0^\circ$  με εκείνη του προσπίπτοντος.
  - Το σκεδαζόμενο φωτόνιο θα κινείται σε αντίθετη κατεύθυνση από εκείνη του προσπίπτοντος.

- Να επιλέξετε τη σωστή απάντηση.

**Μονάδες 2**

- Να δικαιολογήσετε την επιλογή σας.

**Μονάδες 6**

ΑΡΧΗ 3ΗΣ ΣΕΛΙΔΑΣ

- B2.** Ένα διαπασών ( $\delta_1$ ) που λειτουργεί σαν σημειακή ηχητική πηγή, βρίσκεται ακίνητο μπροστά σε λείο κατακόρυφο τοίχο στο σημείο A. Το διαπασών εκπέμπει ήχο συχνότητας  $f_1 = 425 \text{ Hz}$ . Ανάμεσα στο διαπασών και στον τοίχο υπάρχει σημειακός ευαίσθητος δέκτης, ο οποίος μπορεί να μετακινείται ελεύθερα πάνω στο ευθύγραμμο τμήμα AB που συνδέει κάθετα το διαπασών με το σημείο B του τοίχου. Ο δέκτης καταγράφει μέγιστη ένταση ήχου όταν διέρχεται από δυο διαδοχικές θέσεις του ευθύγραμμου τμήματος AB, που απέχουν μεταξύ τους  $0,4 \text{ m}$ .

Αντικαθιστούμε το διαπασών ( $\delta_1$ ) με άλλο ( $\delta_2$ ) το οποίο εκπέμπει ήχο άγνωστης συχνότητας  $f_2$ . Διαπιστώνουμε τώρα ότι όταν ο δέκτης διέρχεται από δύο διαδοχικές θέσεις του ευθύγραμμου τμήματος AB, που απέχουν μεταξύ τους  $1 \text{ m}$ , καταγράφει μηδενική ένταση ήχου.

Η συχνότητα  $f_2$  του ήχου που εκπέμπει το διαπασών ( $\delta_2$ ) είναι:

i.  $f_2 = 170 \text{ Hz}$

ii.  $f_2 = 212,5 \text{ Hz}$

iii.  $f_2 = 1062,5 \text{ Hz}$

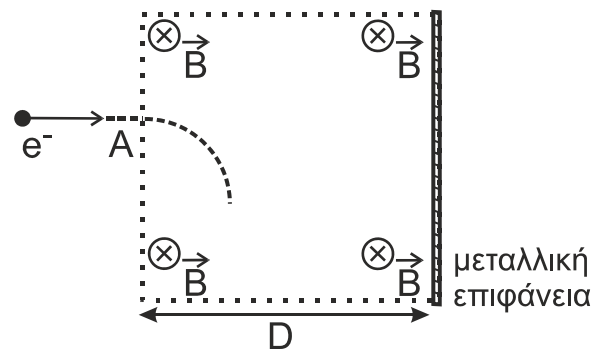
- α) Να επιλέξετε τη σωστή απάντηση.

**Μονάδες 2**

- β) Να δικαιολογήσετε την επιλογή σας.

**Μονάδες 6**

- B3.** Ηλεκτρόνιο μάζας  $m$  και φορτίου ( $-e$ ) με κινητική ενέργεια  $K$  κατευθύνεται προς μεταλλική επιφάνεια που είναι τοποθετημένη κάθετα στη διεύθυνση κίνησης του ηλεκτρονίου. Μπροστά από την επιφάνεια υπάρχει ομογενές μαγνητικό πεδίο έντασης  $\vec{B}$ , με τις δυναμικές του γραμμές να είναι παράλληλες στην μεταλλική επιφάνεια και κάθετες στο επίπεδο της σελίδας. Το εύρος του μαγνητικού πεδίου είναι  $D$ .



Αν το ηλεκτρόνιο εισέρχεται στο μαγνητικό πεδίο σε σημείο A κάθετα στις δυναμικές γραμμές του, όπως φαίνεται στο σχήμα, η ελάχιστη τιμή της έντασης  $B$  του μαγνητικού πεδίου έτσι ώστε το ηλεκτρόνιο να μην προσκρούσει στην μεταλλική επιφάνεια είναι

i.  $B = \frac{\sqrt{2mK}}{|e|D}$

ii.  $B = \frac{D}{|e|} \sqrt{\frac{m}{2K}}$

iii.  $B = \frac{\sqrt{mK}}{|e|D}$

- α) Να επιλέξετε τη σωστή απάντηση.

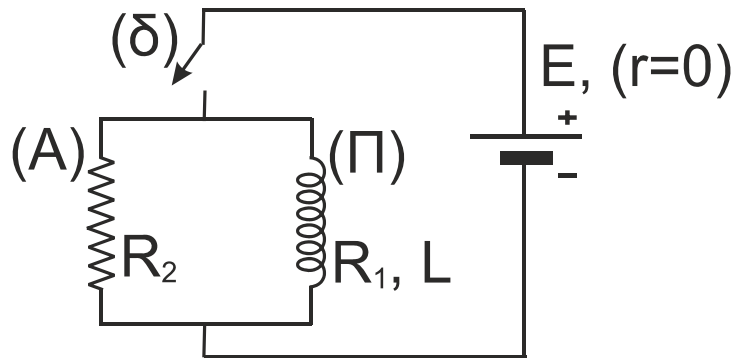
**Μονάδες 2**

- β) Να δικαιολογήσετε την επιλογή σας.

**Μονάδες 7**

ΑΡΧΗ 4ΗΣ ΣΕΛΙΔΑΣ**ΘΕΜΑ Γ**

Ηλεκτρική πηγή, ηλεκτρεγερτικής δύναμης  $E = 0,12 \text{ V}$  και μηδενικής εσωτερικής αντίστασης ( $r = 0$ ) συνδέεται μέσω διακόπτη ( $\delta$ ) με κύκλωμα που αποτελείται από πηνίο ( $\Pi$ ) και αντιστάτη ( $A$ ), όπως στο διπλανό σχήμα. Το πηνίο ( $\Pi$ ) έχει συντελεστή αυτεπαγωγής  $L = 0,2 \text{ H}$  και ωμική αντίσταση  $R_1 = 1,2 \Omega$ . Ο αντιστάτης ( $A$ ) έχει ωμική αντίσταση  $R_2 = 0,6 \Omega$ .



Αρχικά ο διακόπτης ( $\delta$ ) είναι ανοικτός. Τη χρονική στιγμή  $t_0 = 0$  κλείνουμε το διακόπτη.

- Γ1.** i. Να σχεδιάσετε την πολικότητα της ΗΕΔ από αυτεπαγωγή στο πηνίο (μονάδα 1) και να αιτιολογήσετε την απάντησή σας (μονάδες 2).  
 ii. Να υπολογίσετε το ρυθμό μεταβολής της έντασης του ρεύματος που διαρρέει το πηνίο ( $\Pi$ ) αμέσως μετά το κλείσιμο του διακόπτη (μονάδες 4).

**Μονάδες 7**

- Γ2.** Να υπολογίσετε τις τελικές τιμές των εντάσεων των ρευμάτων που διαρρέουν τον αντιστάτη ( $A$ ) (μονάδες 3) και το πηνίο ( $\Pi$ ) (μονάδες 3).

**Μονάδες 6**

Κάποια χρονική στιγμή  $t_1$  ανοίγουμε τον διακόπτη ( $\delta$ ).

- Γ3.** i. Να σχεδιάσετε την πολικότητα της ΗΕΔ από αυτεπαγωγή στο πηνίο (μονάδα 1) και να αιτιολογήσετε την απάντησή σας (μονάδες 2).  
 ii. Να υπολογίσετε το ρυθμό μεταβολής της έντασης του ρεύματος που διαρρέει το πηνίο ( $\Pi$ ) αμέσως μετά το άνοιγμα του διακόπτη (μονάδες 4).

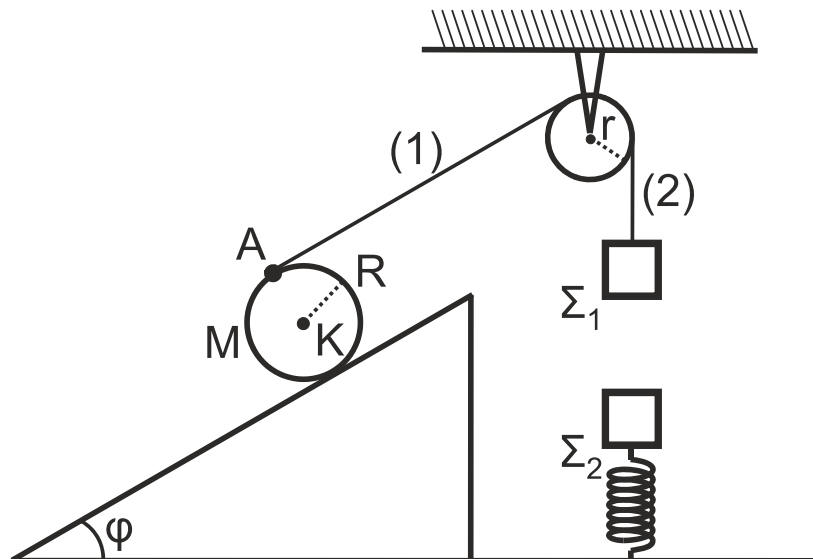
**Μονάδες 7**

- Γ4.** Να υπολογίσετε το ποσό της συνολικής θερμότητας που θα παραχθεί στον αντιστάτη ( $A$ ) και το πηνίο ( $\Pi$ ), από τη στιγμή που ανοίγει ο διακόπτης ( $\delta$ ) και μέχρι το ρεύμα στο κύκλωμα να μηδενιστεί.

**Μονάδες 5****ΘΕΜΑ Δ**

Ομογενής κύλινδρος μάζας  $M$  και ακτίνας  $R = \frac{5}{\pi} \text{ m}$  βρίσκεται σε κεκλιμένο επίπεδο μεγάλου μήκους, γωνίας κλίσεως  $\varphi = 30^\circ$ . Σε σημείο  $A$  της επιφάνειας του κυλίνδρου, το οποίο απέχει από την επιφάνεια του κεκλιμένου επιπέδου απόσταση  $2R$ , έχει δεθεί το ένα άκρο αβαρούς και μη εκτατού νήματος. Το άλλο άκρο του νήματος έχει δεθεί σε σώμα  $\Sigma_1$  μικρών διαστάσεων και μάζας  $m_1 = 1 \text{ kg}$ . Το νήμα περνά από το αυλάκι τροχαλίας ακτίνας  $r$ , η οποία έχει στερεωθεί σε οροφή. Το τμήμα (1) του νήματος είναι παράλληλο προς την επιφάνεια του κεκλιμένου επιπέδου, ενώ το τμήμα (2) κατακόρυφο.

ΤΕΛΟΣ 4ΗΣ ΑΠΟ 8 ΣΕΛΙΔΕΣ

ΑΡΧΗ 5ΗΣ ΣΕΛΙΔΑΣ

Το σύστημα των σωμάτων αυτών ισορροπεί στο ίδιο κατακόρυφο επίπεδο. Ο άξονας του κυλίνδρου είναι κάθετος στο επίπεδο της σελίδας.

Σώμα  $\Sigma_2$  μικρών διαστάσεων και μάζας  $m_2 = 4 \text{ kg}$  ισορροπεί δεμένο στο πάνω άκρο κατακόρυφου ιδανικού ελατηρίου. Το άλλο άκρο του ελατηρίου είναι στερεωμένο στο οριζόντιο δάπεδο. Ο άξονας του ελατηρίου βρίσκεται στην ίδια κατακόρυφη διεύθυνση με τη διεύθυνση του νήματος (2).

**Δ1.** Να υπολογίσετε τη μάζα  $M$  του κυλίνδρου.

**Μονάδες 7**

Τη χρονική στιγμή  $t_0 = 0$ , κόβουμε ταυτόχρονα τα νήματα (1) και (2).

Αμέσως μετά την  $t_0 = 0$ , το σώμα  $\Sigma_1$  πέφτει κατακόρυφα ενώ ο κύλινδρος κατέρχεται το κεκλιμένο επίπεδο με σταθερή επιτάχυνση, εκτελώντας κύλιση χωρίς ολίσθηση. Κατά τη διάρκεια της κύλισής του ο άξονάς του παραμένει συνεχώς κάθετος στο επίπεδο της σελίδας.

**Δ2.** Αν τη χρονική στιγμή  $t_1$  το σημείο  $A$ , ολοκληρώνει μία πλήρη περιστροφή και το κέντρο μάζας του κυλίνδρου έχει ταχύτητα μέτρου  $v_{CM} = 10 \text{ m/s}$ , να υπολογίσετε το μέτρο της επιτάχυνσης του κέντρου μάζας του κυλίνδρου, κάνοντας χρήση των νόμων της κινηματικής κατά την κύλιση στερεών σωμάτων.

**Μονάδες 8**

Το σώμα  $\Sigma_1$  πέφτοντας κατακόρυφα συγκρούεται κεντρικά και πλαστικά με το σώμα  $\Sigma_2$ , έχοντας τη στιγμή της κρούσης ταχύτητα μέτρου  $u_0 = 20 \text{ m/s}$ .

**Δ3.** Να υπολογίσετε το μέτρο της ταχύτητας του συσσωματώματος αμέσως μετά την πλαστική κρούση (μονάδες 4) και το ποσό της θερμικής ενέργειας που απελευθερώνεται στο περιβάλλον κατά την κρούση (μονάδες 6).

**Μονάδες 10**

Να θεωρήσετε ότι:

- η επιτάχυνση της βαρύτητας  $g = 10 \text{ m/s}^2$ .
- οι κρούσεις είναι ακαριαίες και κατά την πραγματοποίησή τους δεν έχουμε απώλεια μάζας.
- το σχήμα δεν είναι υπό κλίμακα.

ΑΡΧΗ 6ΗΣ ΣΕΛΙΔΑΣ**ΟΔΗΓΙΕΣ (για τους εξεταζομένους)**

1. **Οι τύποι και τα δεδομένα που είναι απαραίτητα για την επίλυση των θεμάτων και ΔΕΝ δίνονται στις εκφωνήσεις να αντληθούν από τον πίνακα δεδομένων και τύπων.**
2. **Στο εξώφυλλο** του τετραδίου να γράψετε το εξεταζόμενο μάθημα. **Στο εσώφυλλο πάνω-πάνω** να συμπληρώσετε τα ατομικά στοιχεία μαθητή. **Στην αρχή των απαντήσεών σας** να γράψετε πάνω-πάνω την ημερομηνία και το εξεταζόμενο μάθημα. **Να μην αντιγράψετε** τα θέματα στο τετράδιο και **να μη γράψετε** πουθενά στις απαντήσεις σας το όνομά σας.
3. Να γράψετε το ονοματεπώνυμό σας στο πάνω μέρος των φωτοαντιγράφων αμέσως μόλις σας παραδοθούν. **Τυχόν σημειώσεις σας πάνω στα θέματα δεν θα βαθμολογηθούν σε καμία περίπτωση.** Κατά την αποχώρησή σας να παραδώσετε μαζί με το τετράδιο και τα φωτοαντίγραφα.
4. Να απαντήσετε **στο τετράδιό σας** σε όλα τα θέματα **μόνο** με μπλε ή **μόνο** με μαύρο στυλό με μελάνι που δεν σβήνει. **Για τα σχήματα μπορεί να χρησιμοποιηθεί και μολύβι.**
5. Κάθε απάντηση επιστημονικά τεκμηριωμένη είναι αποδεκτή.
6. Διάρκεια εξέτασης: τρεις (3) ώρες μετά τη διανομή των φωτοαντιγράφων.
7. Χρόνος δυνατής αποχώρησης: 17:00.

**ΣΑΣ ΕΥΧΟΜΑΣΤΕ ΚΑΛΗ ΕΠΙΤΥΧΙΑ****ΤΕΛΟΣ ΜΗΝΥΜΑΤΟΣ**

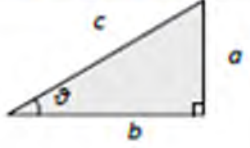
## ΑΡΧΗ 7ΗΣ ΣΕΛΙΔΑΣ

## ΦΥΣΙΚΗ Γ' ΛΥΚΕΙΟΥ ΠΙΝΑΚΑΣ ΔΕΔΟΜΕΝΩΝ ΚΑΙ ΤΥΠΩΝ

ΦΥΣΙΚΕΣ ΣΤΑΘΕΡΕΣ ΚΑΙ ΠΑΡΑΓΟΝΤΕΣ ΜΕΤΑΤΡΟΠΗΣ	
Μάζα πρωτονίου, $m_p = 1,67 \times 10^{-27} \text{ kg}$	Φορτίο ηλεκτρονίου (απόλυτη τιμή), $e = 1,6 \times 10^{-19} \text{ C}$
Μάζα νετρονίου, $m_n = 1,67 \times 10^{-27} \text{ kg}$	Ηλεκτρονιοβόλτ, $1 \text{ eV} = 1,6 \times 10^{-19} \text{ J}$
Μάζα ηλεκτρονίου, $m_e = 9,11 \times 10^{-31} \text{ kg}$	Ταχύτητα του φωτός, $c = 3 \times 10^8 \text{ m/s}$
Επιτάχυνση λόγω της βαρύτητας κοντά στην επιφάνεια της Γης, $g = 9.8 \text{ m/s}^2$	
Ηλεκτρική σταθερά, $k = 1/4\pi\epsilon_0 = 9 \cdot 10^9 \text{ N} \cdot \text{m}^2/\text{C}^2$	
Σταθερά παγκόσμιας έλξης, $G = 6,67 \cdot 10^{-11} \text{ m}^3/\text{kg} \cdot \text{s}^2$	
Μαγνητική διαπερατότητα του κενού, $\mu_0 = 4\pi \times 10^{-7} \text{ Wb/A} \cdot \text{m} = 4\pi \times 10^{-7} (\text{Tm/A})$	
Σταθερά του Planck, $h = 6,63 \times 10^{-34} \text{ J} \cdot \text{s} = 4,14 \times 10^{-15} \text{ eV} \cdot \text{s}$	
$hc = 12,42 \cdot 10^{-7} \text{ eV} \cdot \text{m} = 12,42 \cdot 10^{-7} \text{ eV} \cdot 10^9 \text{ nm} = 1242 \text{ eV} \cdot \text{nm} \approx 1200 \text{ eV} \cdot \text{nm}$	

ΠΡΟΘΕΜΑΤΑ ΜΟΝΑΔΩΝ ΜΕΤΡΗΣΗΣ
$10^{12} \rightarrow \text{tera (T)}$
$10^9 \rightarrow \text{giga (G)}$
$10^6 \rightarrow \text{mega (M)}$
$10^3 \rightarrow \text{kilo (k)}$
$10^{-2} \rightarrow \text{centi (c)}$
$10^{-3} \rightarrow \text{milli (m)}$
$10^{-6} \rightarrow \text{micro (\mu)}$
$10^{-9} \rightarrow \text{nano (n)}$
$10^{-12} \rightarrow \text{pico (p)}$

ΓΕΩΜΕΤΡΙΑ - ΤΡΙΓΩΝΟΜΕΤΡΙΑ
Εμβαδόν παραλληλογράμμου: $A = \theta v$
Περίμετρος κύκλου: $C = 2\pi r$
Εμβαδόν κύκλου: $A = \pi r^2$
Εμβαδόν σφαίρας: $A = 4\pi r^2$
Όγκος σφαίρας: $V = \frac{4}{3} \pi r^3$
Μήκος τόξου κύκλου $s = R \theta$
$\eta\mu\alpha + \eta\mu\beta = 2\sigma\upsilon\nu\left(\frac{\alpha - \beta}{2}\right)\eta\mu\left(\frac{\alpha + \beta}{2}\right)$

ΟΡΘΟΓΩΝΙΟ ΤΡΙΓΩΝΟ
$\eta\mu\theta = \frac{a}{c}, \sigma\upsilon\nu\theta = \frac{b}{c}$
$\epsilon\phi\theta = \frac{a}{b}$
$c^2 = a^2 + b^2$


ΜΟΝΑΔΕΣ, ΣΥΜΒΟΛΑ	μέτρο, m	χέρτζ, Hz	τζούλ, J	ηλεκτρονιοβόλτ, eV
	χιλιόγραμμα, kg	τέσλα, T	νιούτον, N	κέλβιν, K
	δευτερόλεπτο, s	χένρι, H	βόλτ, V	βάτ, W
	αμπέρ, A	ομ, Ω	κουλόμπ, C	ακτίνιο, rad

ΤΡΙΓΩΝΟΜΕΤΡΙΚΟΙ ΑΡΙΘΜΟΙ							
$\theta$	$0^\circ$	$30^\circ$	$37^\circ$	$45^\circ$	$53^\circ$	$60^\circ$	$90^\circ$
$\eta\mu\theta$	0	1/2	3/5	$\sqrt{2}/2$	4/5	$\sqrt{3}/2$	1
$\sigma\upsilon\nu\theta$	1	$\sqrt{3}/2$	4/5	$\sqrt{2}/2$	3/5	1/2	0
$\epsilon\phi\theta$	0	$\sqrt{3}/3$	3/4	1	4/3	$\sqrt{3}$	-

ΚΡΟΥΣΕΙΣ- ΜΗΧΑΝΙΚΗ ΣΤΕΡΕΟΥ ΣΩΜΑΤΟΣ		ΗΛΕΚΤΡΟΜΑΓΝΗΤΙΣΜΟΣ- ΗΛΕΚΤΡΟΜΑΓΝΗΤΙΚΑ ΚΥΜΑΤΑ		
$v = v_0 + at$	$x = x_0 + v_0 t + \frac{1}{2} at^2$	$E = \frac{F}{q}$	$\Phi_B = B A \sigma\upsilon\nu\theta$	A: εμβαδόν
$v^2 = v_0^2 + 2a(x - x_0)$	$v_1' = \frac{m_1 - m_2}{m_1 + m_2} v_1$	$I = \frac{dq}{dt}$	$F = B  q  v$	B: μαγνητικό πεδίο
		$I = \frac{V}{R}$	$F = B I l \eta\mu\phi$	E: ηλεκτρικό πεδίο, ΗΕΔ
		$I = \frac{E}{R_{\text{ολ}}}$	$F = \frac{\mu_0}{2\pi} \frac{I_1 I_2}{\alpha}$	E <sub>εκ</sub> : ΗΕΔ από επαγωγή
				E <sub>αυτ</sub> : ΗΕΔ από αυτεπαγωγή
				I: συντελεστής αυτεπαγωγής

## ΑΡΧΗ 8ΗΣ ΣΕΛΙΔΑΣ

$v_2 = \frac{2m_1}{m_1 + m_2} v_1$ $\Sigma \vec{F} = m\vec{a} = \frac{d\vec{p}}{dt}$ $T_{ολ} = \mu N$ $K = \frac{1}{2} m v^2$ $p = m v$ $v = \frac{ds}{dt}$ $a_k = \frac{v^2}{r}$ $\omega = \frac{d\theta}{dt} = \frac{2\pi}{T} = 2\pi f$ $T = \frac{1}{f}$ $v_{cm} = \omega R$ $a_{γων} = \frac{d\omega}{dt}$ $a_{cm} = a_{γων} R$ $\tau = F l = F d$ $L = m v r$ $\Sigma \tau_{ext} = \frac{dL}{dt}$	<p>L: στροφορμή l, d: μήκος ή απόσταση m: μάζα ρ: ορμή R ή r: ακτίνα s: τόξο ή διάστημα T: περίοδος V: όγκος υ: ταχύτητα W: έργο x, y: θέση Δx: μετατόπιση α<sub>γων</sub>: γωνιακή επιτάχυνση μ: συντελεστής τριβής θ: γωνία ρ: πυκνότητα r: ροπή ω: γωνιακή ταχύτητα</p>	$V = \frac{W}{q}$ $R_{ολ} = R_1 + R_2 + R_3$ $\frac{1}{R_{ολ}} = \frac{1}{R_1} + \frac{1}{R_2} + \frac{1}{R_3}$ $R = \rho \frac{l}{A}$ $\Delta B = \frac{\mu_0 I \Delta l}{4\pi r^2} \eta \mu \theta$ $B = \frac{\mu_0 2I}{4\pi r}$ $B = \frac{\mu_0 2\pi I}{4\pi r}$ $\Sigma B \Delta l \sigma \nu \theta = \mu_0 I_{ext}$ $B = \mu_0 I n$ $n = \frac{N}{l}$	$E_{ext} = B v l$ $E_{ext} = -N \frac{d\Phi_B}{dt}$ $E_{avt} = -L \frac{di}{dt}$ $L = \mu \mu_0 \frac{N^2}{l} A$ $U = \frac{1}{2} L I^2$ $\frac{E}{B} = c$ $E = E_{max} \eta \mu 2\pi \left( \frac{t}{T} - \frac{x}{\lambda} \right)$ $B = B_{max} \eta \mu 2\pi \left( \frac{t}{T} - \frac{x}{\lambda} \right)$	<p>I: ηλεκτρικό ρεύμα V: διαφορά δυναμικού l ή d ή α: μήκος ή απόσταση U: ενέργεια μαγν. Πεδίου q: ηλεκτρικό φορτίο R: αντίσταση W: έργο R<sub>ολ</sub>: ολική αντίσταση ρ: ειδική αντίσταση F: δύναμη T: περίοδος r: ακτίνα ή απόσταση n: αριθμός σπειρών ανά μονάδα μήκους N: αριθμός σπειρών υ: ταχύτητα Φ<sub>B</sub>: μαγνητική ροή θ, φ: γωνία μ: μαγνητική διαπερατότητα c: ταχύτητα του φωτός</p>
<b>ΤΑΛΑΝΤΩΣΕΙΣ ΚΑΙ ΜΗΧΑΝΙΚΑ ΚΥΜΑΤΑ</b>		<b>ΕΝΑΛΛΑΣΣΙΜΟ ΜΕΝΟ ΡΕΥΜΑ</b>		
$x = A \eta \mu(\omega t + \phi)$ $v = \omega A \sigma \nu \nu(\omega t + \phi)$ $a = -\omega^2 A \eta \mu(\omega t + \phi)$ $F = -D x$ $U = \frac{1}{2} D x^2$ $F = -b v$ $A = A_0 e^{-\lambda t}$ $u = \lambda f$ $y = A \eta \mu 2\pi \left( \frac{t}{T} \pm \frac{x}{\lambda} \right)$ $y = 2 A \sigma \nu \nu \frac{2\pi x}{\lambda} \eta \mu \frac{2\pi t}{T}$	<p>A: πλάτος x: απομάκρυνση υ: ταχύτητα a: επιτάχυνση ω: γωνιακή συχνότητα φ: αρχική φάση f: συχνότητα K ή k: σταθερά ελατηρίου D: σταθερά επαναφοράς T: περίοδος b: σταθερά απόσβεσης λ: μήκος κύματος T: περίοδος U: δυναμική ενέργεια y: απομάκρυνση</p>	$u = v \eta \mu \omega t$ $V = N B \omega A$ $i = I \eta \mu(\omega t)$ $i = \frac{v}{R}$ $I_{av} = \frac{I}{\sqrt{2}}$ $V_{av} = \frac{V}{\sqrt{2}}$ $p = u i$ $P = \frac{W}{T}$	<p>υ: στιγμιαία τάση V: πλάτος τάσης i: στιγμιαίο ρεύμα I: πλάτος ρεύματος I<sub>εν</sub>: ενεργός ένταση V<sub>εν</sub>: ενεργός τάση P: Μέση ισχύς ρ: Στιγμιαία ισχύς T: περίοδος R: αντίσταση W: ενέργεια ηλ. ρεύματος Q: θερμότητα</p>	
<b>ΣΤΟΙΧΕΙΑ ΚΒΑΝΤΟΜΗΧΑΝΙΚΗΣ</b>				
$\lambda_{max} T = \text{σταθ}$ $c = \lambda f$ $E = hf = pc, \quad p = \frac{h}{\lambda}$ $K = hf - \Phi$	$\lambda' - \lambda = \frac{h}{m_e c} (1 - \sigma \nu \nu \phi)$ $\Delta p_x \Delta x \geq \frac{h}{2\pi}, \quad \Delta E \Delta t \geq \frac{h}{2\pi}$ $\Sigma  \psi ^2 dV = 1$	<p>T: θερμοκρασία E: ενέργεια ρ: ορμή c: ταχύτητα φωτός f: συχνότητα x: θέση</p>	<p>λ: μήκος κύματος φ: γωνία t: χρόνος Φ: Έργο εξαγωγής Δ: αβεβαιότητα Ψ: κυματοσυνάρτηση V: όγκος</p>	