

ΑΡΧΗ 1ΗΣ ΣΕΛΙΔΑΣ - ΕΠΑΝΑΛΗΠΤΙΚΕΣ Γ΄ ΗΜΕΡΗΣΙΩΝ - ΝΕΟ ΣΥΣΤΗΜΑ

ΕΠΑΝΑΛΗΠΤΙΚΕΣ ΠΑΝΕΛΛΑΔΙΚΕΣ ΕΞΕΤΑΣΕΙΣ
Γ΄ ΤΑΞΗΣ ΗΜΕΡΗΣΙΟΥ ΓΕΝΙΚΟΥ ΛΥΚΕΙΟΥ
ΤΕΤΑΡΤΗ 8 ΙΟΥΝΙΟΥ 2016 - ΕΞΕΤΑΖΟΜΕΝΟ ΜΑΘΗΜΑ: ΧΗΜΕΙΑ
ΠΡΟΣΑΝΑΤΟΛΙΣΜΟΥ (ΝΕΟ ΣΥΣΤΗΜΑ)
ΣΥΝΟΛΟ ΣΕΛΙΔΩΝ: ΠΕΝΤΕ (5)

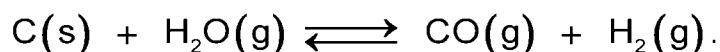
ΘΕΜΑ Α

Για τις προτάσεις **A1** έως και **A5** να γράψετε στο τετράδιό σας τον αριθμό της πρότασης και, δίπλα, το γράμμα που αντιστοιχεί στη σωστή επιλογή.

- A1.** Σε μια χημική αντίδραση ως οξειδωτικό χαρακτηρίζεται εκείνη η χημική ουσία που περιέχει
- α. άτομα ή ιόντα που οξειδώνονται
 - β. οπωσδήποτε άτομο/άτομα οξυγόνου
 - γ. άτομα ή ιόντα που μειώνεται ο αριθμός οξειδωσής τους
 - δ. άτομα ή ιόντα που αποβάλλουν ηλεκτρόνια.

Μονάδες 5

- A2.** Σε κλειστό δοχείο σταθερού όγκου γίνεται η αμφίδρομη αντίδραση που περιγράφεται από την χημική εξίσωση



Στην κατάσταση χημικής ισορροπίας προστίθεται ποσότητα στερεού C, χωρίς μεταβολή της θερμοκρασίας. Η προσθήκη αυτή επιφέρει :

- α. αύξηση της συγκέντρωσης του CO
- β. μείωση της συγκέντρωσης του CO
- γ. μεταβολή της σταθεράς χημικής ισορροπίας K_c
- δ. καμία μεταβολή.

Μονάδες 5

- A3.** Ένα διάλυμα CH_3COOH 0,1 M αραιώνεται με την προσθήκη ίσου όγκου H_2O , σε σταθερή θερμοκρασία, οπότε
- α. αυξάνεται ο βαθμός ιοντισμού και το pH
 - β. μειώνεται ο βαθμός ιοντισμού και το pH
 - γ. αυξάνεται ο βαθμός ιοντισμού, ενώ το pH μειώνεται
 - δ. μειώνεται ο βαθμός ιοντισμού, ενώ το pH αυξάνεται.

Μονάδες 5

- A4.** Το τροχιακό $3p_x$ έχει την παρακάτω τριάδα κβαντικών αριθμών (n , ℓ , m_ℓ)
- α. (3, 0, 0)
 - β. (3, 1, 1)
 - γ. (3, 1, -1)
 - δ. (3, 1, 0).

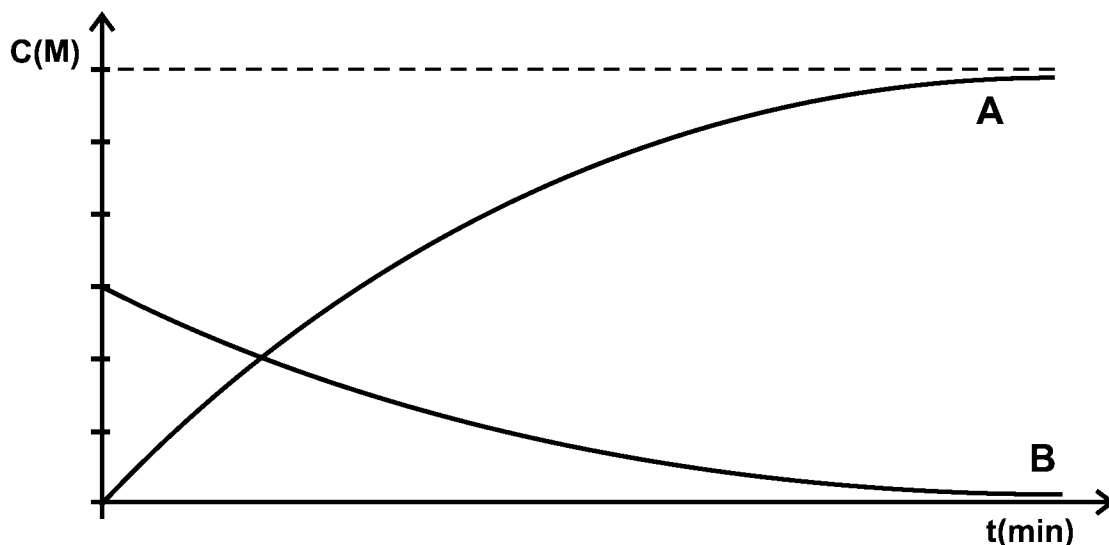
Μονάδες 5

- A5.** Η σειρά δραστηκότητας των αλκυλαλογονιδίων στις αντιδράσεις υποκατάστασης είναι
- α. $\text{CH}_3\text{I} > \text{CH}_3\text{Br} > \text{CH}_3\text{Cl} > \text{CH}_3\text{F}$
 - β. $\text{CH}_3\text{I} > \text{CH}_3\text{Br} > \text{CH}_3\text{F} > \text{CH}_3\text{Cl}$
 - γ. $\text{CH}_3\text{F} > \text{CH}_3\text{Cl} > \text{CH}_3\text{Br} > \text{CH}_3\text{I}$
 - δ. $\text{CH}_3\text{Br} > \text{CH}_3\text{I} > \text{CH}_3\text{Cl} > \text{CH}_3\text{F}$.

Μονάδες 5

ΑΡΧΗ 2ΗΣ ΣΕΛΙΔΑΣ - ΕΠΑΝΑΛΗΠΤΙΚΕΣ Γ΄ ΗΜΕΡΗΣΙΩΝ - ΝΕΟ ΣΥΣΤΗΜΑ**ΘΕΜΑ Β**

- B1.** Η παρακάτω γραφική παράσταση απεικονίζει τις συγκεντρώσεις αντιδρώντος και προϊόντος μιας χημικής αντίδρασης, σε συνάρτηση με το χρόνο.



Η χημική εξίσωση που ταιριάζει στην γραφική παράσταση είναι η

- α. $A \longrightarrow B$
 β. $B \longrightarrow A$
 γ. $A \longrightarrow 2B$
 δ. $B \longrightarrow 2A$.

Να επιλέξετε τη σωστή απάντηση.

(μονάδες 1)

Να αιτιολογήσετε την απάντησή σας.

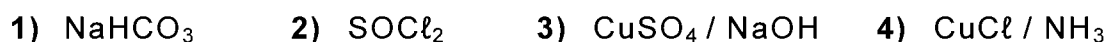
(μονάδες 4)

Μονάδες 5

- B2.** Δίνονται οι ακόλουθες οργανικές ενώσεις



και τα αντιδραστήρια



- α. Για καθεμιά από τις οργανικές ενώσεις i έως iv να επιλέξετε το αντιδραστήριο 1 έως 4 με το οποίο αυτή αντιδρά.

(μονάδες 4)

- β. Να γράψετε σωστά (προϊόντα και συντελεστές) τις αντιδράσεις του αλκινίου και του καρβοξυλικού οξέος με το αντιδραστήριο που επιλέξατε.

(μονάδες 4)

Μονάδες 8

ΑΡΧΗ 3ΗΣ ΣΕΛΙΔΑΣ - ΕΠΑΝΑΛΗΠΤΙΚΕΣ Γ' ΗΜΕΡΗΣΙΩΝ - ΝΕΟ ΣΥΣΤΗΜΑ

B3. Να χαρακτηρίσετε τις προτάσεις που ακολουθούν, γράφοντας στο τετράδιό σας δίπλα στο γράμμα που αντιστοιχεί σε κάθε πρόταση, τη λέξη **Σωστό**, αν η πρόταση είναι σωστή, ή **Λάθος**, αν η πρόταση είναι λανθασμένη.

- Η δεύτερη ενέργεια ionτισμού του ατόμου ενός στοιχείου είναι μικρότερη από την πρώτη.
- Η συζυγής βάση του H_2S είναι το S^{2-} .
- Το στοιχείο με ατομικό αριθμό 31 ανήκει στη δεύτερη ομάδα του Περιοδικού Πίνακα.
- Τα νιτρίλια ($R-C\equiv N$) είναι δυνατόν να αναχθούν.

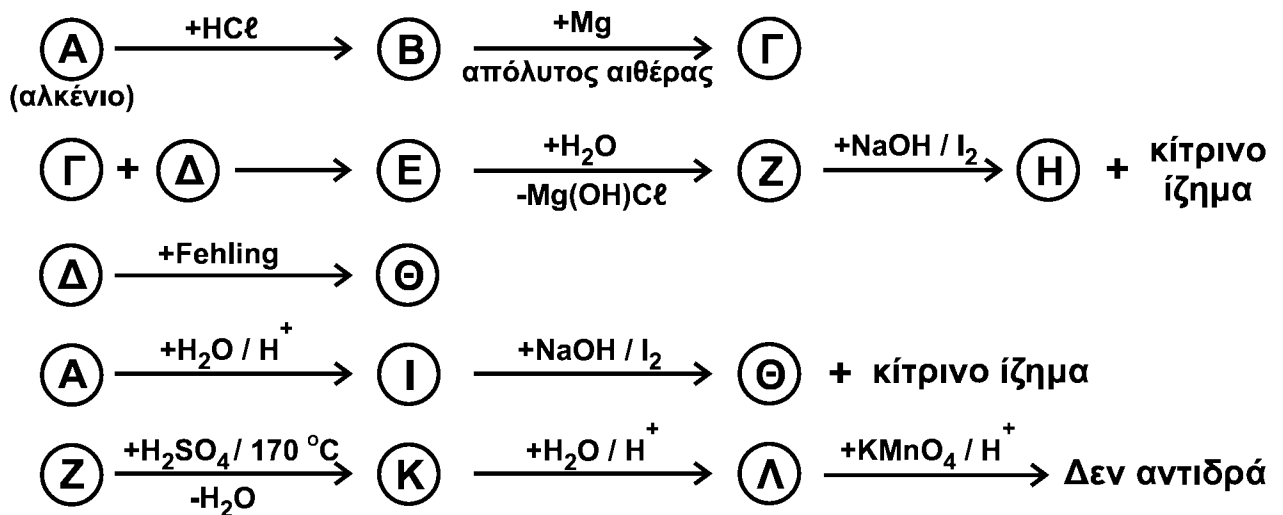
(μονάδες 4)

Να αιτιολογήσετε τις απαντήσεις σας.

(μονάδες 8)

Μονάδες 12ΘΕΜΑ Γ

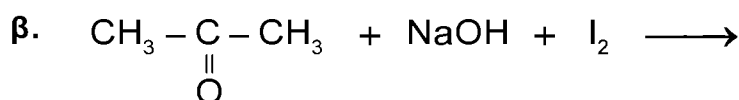
Γ1. Δίνονται οι παρακάτω αντιδράσεις.



Να γράψετε τους συντακτικούς τύπους των οργανικών ενώσεων Α, Β, Γ, Δ, Ε, Ζ, Η, Θ, Ι, Κ και Λ, οι οποίες αποτελούν τα κύρια προϊόντα των αντιδράσεων.

Μονάδες 11

Γ2. Να μεταφέρετε στο τετράδιό σας συμπληρωμένες σωστά (προϊόντα και συντελεστές) τις χημικές εξισώσεις των παρακάτω αντιδράσεων:

**Μονάδες 6**

ΑΡΧΗ 4ΗΣ ΣΕΛΙΔΑΣ - ΕΠΑΝΑΛΗΠΤΙΚΕΣ Γ΄ ΗΜΕΡΗΣΙΩΝ - ΝΕΟ ΣΥΣΤΗΜΑ

- Γ3.** Ομογενές μίγμα μεθανόλης και κορεσμένης ένωσης με μοριακό τύπο C_3H_6O χωρίζεται σε δύο ίσα μέρη.
- Το 1^ο μέρος αντιδρά πλήρως με $SOCl_2$ και παράγονται 2,24 L ανόργανων αερίων μετρημένα σε STP.
 - Το 2^ο μέρος αντιδρά πλήρως με 550 mL διαλύματος $KMnO_4$ 0,2 M, παρουσία H_2SO_4 .

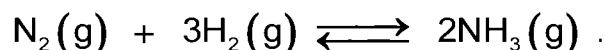
Να βρεθούν

- α. ο συντακτικός τύπος της C_3H_6O , και (μονάδες 4)
- β. η σύσταση του αρχικού μίγματος σε mol. (μονάδες 4)

Μονάδες 8

ΘΕΜΑ Δ

- Δ1.** Η αμμωνία (NH_3) παρασκευάζεται σύμφωνα με την αμφίδρομη αντίδραση που περιγράφεται από την παρακάτω χημική εξίσωση:



Σε δοχείο όγκου 8 L, σε θερμοκρασία θ_1 εισάγονται 5 mol N_2 και 11 mol H_2 . Στην κατάσταση χημικής ισορροπίας διαπιστώνεται ότι η ποσότητα της αμμωνίας είναι 2 mol.

- α. Να υπολογίσετε την απόδοση (με μορφή κλασματικού αριθμού) της αντίδρασης σύνθεσης της αμμωνίας. (μονάδες 4)
- β. Να υπολογίσετε την σταθερά χημικής ισορροπίας K_c της αντίδρασης σύνθεσης της αμμωνίας στη θερμοκρασία θ_1 . (μονάδες 3)
- γ. Αν η θερμοκρασία του μίγματος ισορροπίας γίνει θ_2 , όπου $\theta_2 > \theta_1$, τότε τα συνολικά mol του μίγματος ισορροπίας γίνονται 15. Να χαρακτηρίσετε την αντίδραση σχηματισμού της αμμωνίας ως ενδόθερμη ή εξώθερμη.

Να αιτιολογήσετε την απάντησή σας.

(μονάδες 3)

Μονάδες 10

- Δ2.** Από το παραπάνω μίγμα ισορροπίας λαμβάνονται 0,02 mol NH_3 , τα οποία διαλύονται σε νερό, οπότε σχηματίζεται διάλυμα Y_1 όγκου 200 mL. Το pH του διαλύματος Y_1 είναι 11. Να υπολογίσετε τη σταθερά ιοντισμού K_b της NH_3 .


Μονάδες 4

- Δ3.** Πόσα mol HCl πρέπει να προσθέσουμε στο διάλυμα Y_1 , ώστε να δημιουργηθεί διάλυμα Y_2 , το pH του οποίου θα διαφέρει από το pH του Y_1 κατά δύο μονάδες;

Μονάδες 6

ΑΡΧΗ 5ΗΣ ΣΕΛΙΔΑΣ - ΕΠΑΝΑΛΗΠΤΙΚΕΣ Γ΄ ΗΜΕΡΗΣΙΩΝ - ΝΕΟ ΣΥΣΤΗΜΑ

- Δ4.** Στο διάλυμα Υ2 προστίθενται μερικές σταγόνες του δείκτη ερυθρό της φαινόλης με $pK_a = 8$. Δίνεται ότι ο ιοντισμός του δείκτη παριστάνεται από την χημική εξίσωση



- α. Να υπολογίσετε το λόγο $[\Delta^-] / [H\Delta]$.
(μονάδες 3)
- β. Αν η όξινη μορφή του δείκτη έχει χρώμα κίτρινο και η βασική μορφή έχει χρώμα κόκκινο, τι χρώμα θα αποκτήσει το διάλυμα Υ2 μετά την προσθήκη του δείκτη;
Να αιτιολογήσετε την απάντησή σας.

(μονάδες 2)
Μονάδες 5

Δίνεται ότι:

- Όλα τα διαλύματα είναι υδατικά.
- Όλα τα διαλύματα βρίσκονται σε θερμοκρασία $\theta = 25\text{ }^\circ\text{C}$, εκτός αν καθορίζεται διαφορετικά στην εκφώνηση.
- $K_w = 10^{-14}$.
- Τα δεδομένα του θέματος Δ επιτρέπουν τις γνωστές προσεγγίσεις.

ΟΔΗΓΙΕΣ (για τους εξεταζομένους)

1. Στο εξώφυλλο να γράψετε το εξεταζόμενο μάθημα. Στο εσώφυλλο πάνω-πάνω να συμπληρώσετε τα ατομικά σας στοιχεία. Στην αρχή των απαντήσεών σας να γράψετε πάνω-πάνω την ημερομηνία και το εξεταζόμενο μάθημα. **Να μην αντιγράψετε** τα θέματα στο τετράδιο και **να μη γράψετε** πουθενά στις απαντήσεις σας το όνομά σας.
2. Να γράψετε το ονοματεπώνυμό σας στο πάνω μέρος των φωτοαντιγράφων, αμέσως μόλις σας παραδοθούν. **Τυχόν σημειώσεις σας πάνω στα θέματα δεν θα βαθμολογηθούν σε καμία περίπτωση**. Κατά την αποχώρησή σας, να παραδώσετε μαζί με το τετράδιο και τα φωτοαντίγραφα.
3. Να απαντήσετε **στο τετράδιό σας** σε όλα τα θέματα **μόνο** με μπλε ή **μόνο** με μαύρο στυλό με μελάνι που δεν σβήνει.
4. Κάθε απάντηση επιστημονικά τεκμηριωμένη είναι αποδεκτή.
5. Διάρκεια εξέτασης: τρεις (3) ώρες μετά τη διανομή των φωτοαντιγράφων.
6. Χρόνος δυνατής αποχώρησης: 18:30

ΣΑΣ ΕΥΧΟΜΑΣΤΕ ΚΑΛΗ ΕΠΙΤΥΧΙΑ

ΤΕΛΟΣ ΜΗΝΥΜΑΤΟΣ

ΤΕΛΟΣ 5ΗΣ ΑΠΟ 5 ΣΕΛΙΔΕΣ