

ΑΡΧΗ 1ΗΣ ΣΕΛΙΔΑΣ - ΝΕΟ ΣΥΣΤΗΜΑ Γ΄ ΗΜΕΡΗΣΙΩΝ

ΠΑΝΕΛΛΑΔΙΚΕΣ ΕΞΕΤΑΣΕΙΣ
Γ΄ ΤΑΞΗΣ ΗΜΕΡΗΣΙΟΥ ΓΕΝΙΚΟΥ ΛΥΚΕΙΟΥ
ΤΕΤΑΡΤΗ 1 ΙΟΥΝΙΟΥ 2016 - ΕΞΕΤΑΖΟΜΕΝΟ ΜΑΘΗΜΑ:
ΒΙΟΛΟΓΙΑ ΓΕΝΙΚΗΣ ΠΑΙΔΕΙΑΣ (ΝΕΟ ΣΥΣΤΗΜΑ)
ΣΥΝΟΛΟ ΣΕΛΙΔΩΝ: ΠΕΝΤΕ (5)

ΘΕΜΑ Α

Να γράψετε στο τετράδιό σας τον αριθμό καθεμιάς από τις παρακάτω ημιτελείς προτάσεις **A1** έως **A5** και, δίπλα, το γράμμα που αντιστοιχεί στη λέξη ή στη φράση η οποία συμπληρώνει σωστά την ημιτελή πρόταση.

- A1.** Αυτοάνοσο νόσημα είναι η
- α. χολέρα
 - β. ελονοσία
 - γ. ρευματοειδής αρθρίτιδα
 - δ. πολιομυελίτιδα.

Μονάδες 5

- A2.** Πολλά βακτήρια σε αντίξοες συνθήκες μπορούν να μετατραπούν σε
- α. υφές
 - β. εκβλαστήματα
 - γ. έλυτρα
 - δ. ενδοσπόρια.

Μονάδες 5

- A3.** Ένα εμβόλιο μπορεί να περιέχει
- α. έτοιμα αντισώματα
 - β. νεκρούς μικροοργανισμούς
 - γ. αντιβιοτικό
 - δ. Β-λεμφοκύτταρα μνήμης.

Μονάδες 5

- A4.** Μία αιτία πρόκλησης ευτροφισμού σε μία λίμνη μπορεί να είναι
- α. η παρουσία DDT στο νερό της λίμνης
 - β. τα βαρέα μέταλλα, που κατέληξαν στο νερό της λίμνης
 - γ. τα νιτρικά και φωσφορικά άλατα που περιέχονται σε λιπάσματα, αποπλένονται από το νερό της βροχής και καταλήγουν στη λίμνη
 - δ. η όξινη βροχή, που πέφτει στο νερό της λίμνης.

Μονάδες 5

ΑΡΧΗ 2ΗΣ ΣΕΛΙΔΑΣ - ΝΕΟ ΣΥΣΤΗΜΑ Γ΄ ΗΜΕΡΗΣΙΩΝ

- A5.** Στα συμπτώματα της φλεγμονής περιλαμβάνεται
- το οίδημα (πρήξιμο)
 - η προπερδίνη
 - η λυσοζύμη
 - το συμπλήρωμα.

Μονάδες 5**ΘΕΜΑ Β**

- B1.** Κάθε χρόνο γινόμαστε μάρτυρες πολλών μικρών ή μεγαλύτερων πυρκαγιών στην Ελλάδα και σε άλλες μεσογειακές χώρες. Να αναφέρετε τους λόγους για τους οποίους, στις χώρες αυτές, ευνοείται η εκδήλωση πυρκαγιών στα μεσογειακά οικοσυστήματα, στη διάρκεια του καλοκαιριού.

Μονάδες 6

- B2.** Να μεταφέρετε στο τετράδιο σας την αντιστοιχία κάθε αριθμού της **στήλης I**, με ένα μόνο γράμμα (A ή B) της **στήλης II**.

Στήλη I
1. Επιδερμική εξάτμιση
2. Διαπνοή
3. Φυμάτια
4. Αμειψισπορά
5. Περιπτώματα ζώων (κοπριά)
6. Νιτροποιητικά βακτήρια

Στήλη II
A. Κύκλος Αζώτου
B. Κύκλος Νερού

Μονάδες 6

- B3.** Να χαρακτηρίσετε τις προτάσεις που ακολουθούν, γράφοντας στο τετράδιό σας δίπλα στο γράμμα που αντιστοιχεί σε κάθε πρόταση, τη λέξη **Σωστό**, αν η πρόταση είναι σωστή, ή **Λάθος**, αν η πρόταση είναι λανθασμένη.

- Η πίσσα που παράγεται κατά την καύση του τσιγάρου, αποτελεί αιτία για την εμφάνιση καρκίνου του πνεύμονα.
- Η συνεχιζόμενη κατανάλωση οينوπνεύματος μπορεί να προκαλέσει κίρρωση του ήπατος.
- Ο τρόπος δράσης της μορφίνης στα εγκεφαλικά κέντρα είναι πολύ διαφορετικός από τον τρόπο δράσης των ενδορφινών.
- Το γενετικό υλικό του ιού HIV είναι DNA.
- Η λοίμωξη από τριχομονάδα οφείλεται σε παθογόνα πρωτόζωα.

Μονάδες 5

- B4.** Να γράψετε τους ορισμούς:

- αλλεργία (μονάδες 4)
- μικροοργανισμοί (μονάδες 4).

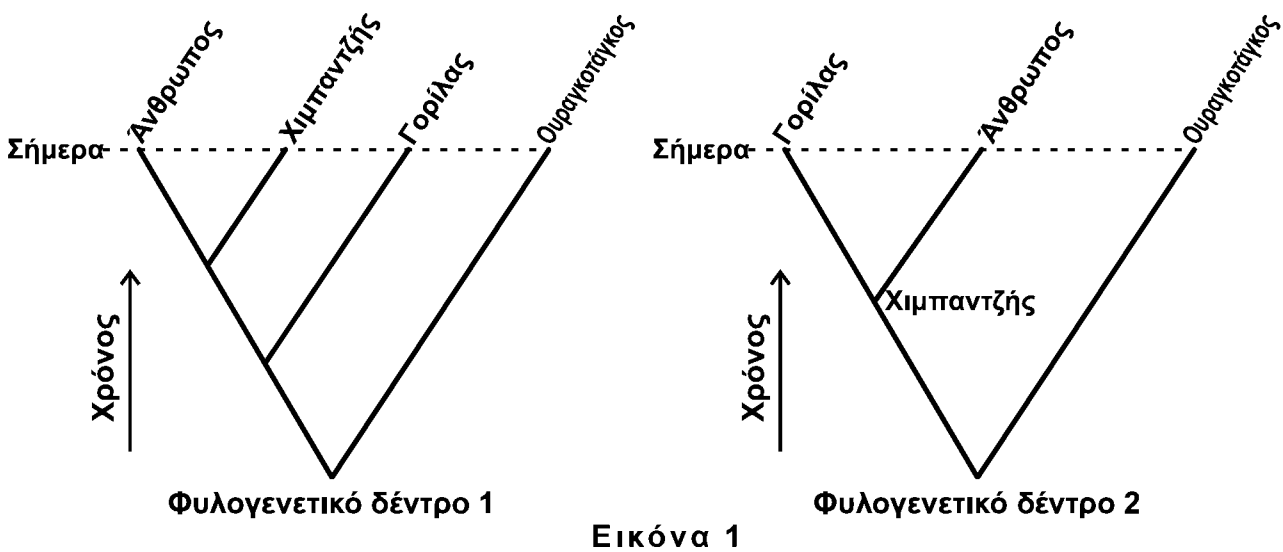
Μονάδες 8

ΑΡΧΗ 3ΗΣ ΣΕΛΙΔΑΣ - ΝΕΟ ΣΥΣΤΗΜΑ Γ΄ ΗΜΕΡΗΣΙΩΝ**ΘΕΜΑ Γ**

Γ1. Πολλοί πιστεύουν, λανθασμένα, ότι ο Κάρολος Δαρβίνος υποστήριξε πως ο άνθρωπος προέρχεται από τον πίθηκο. Αντίθετα, ο Κάρολος Δαρβίνος στο βιβλίο του «*Η καταγωγή του ανθρώπου*» διατύπωσε μια διαφορετική άποψη. Ποια είναι η άποψη αυτή;

Μονάδες 4

Γ2. Στην **εικόνα 1** δίνονται δύο φυλογενετικά δέντρα που περιλαμβάνουν τέσσερα είδη οργανισμών που ζουν σήμερα: τον άνθρωπο και τρία είδη πιθήκων, το χιμπαντζής, το γορίλας και τον ουραγοτάγκο. Να γράψετε (χωρίς να αιτιολογήσετε) ποιο από τα δύο φυλογενετικά δέντρα της **εικόνας 1** είναι σύμφωνο με την άποψη του Κάρολου Δαρβίνου, που αναφέρατε στην απάντηση του ερωτήματος **Γ1**;

**Μονάδες 3**

Γ3. Να αναφέρετε ονομαστικά τους παράγοντες που διαμορφώνουν την εξελικτική πορεία, σύμφωνα με τη συνθετική θεωρία για την εξέλιξη.

Μονάδες 6

Γ4. Στο νοσοκομείο μιας πόλης προσήλθαν δύο ασθενείς, ο Γιάννης και ο Κώστας. Ο ένας διαγνώστηκε με γρίπη και ο άλλος με βακτηριακή λοίμωξη του αναπνευστικού συστήματος.



ΑΡΧΗ 4ΗΣ ΣΕΛΙΔΑΣ - ΝΕΟ ΣΥΣΤΗΜΑ Γ΄ ΗΜΕΡΗΣΙΩΝ

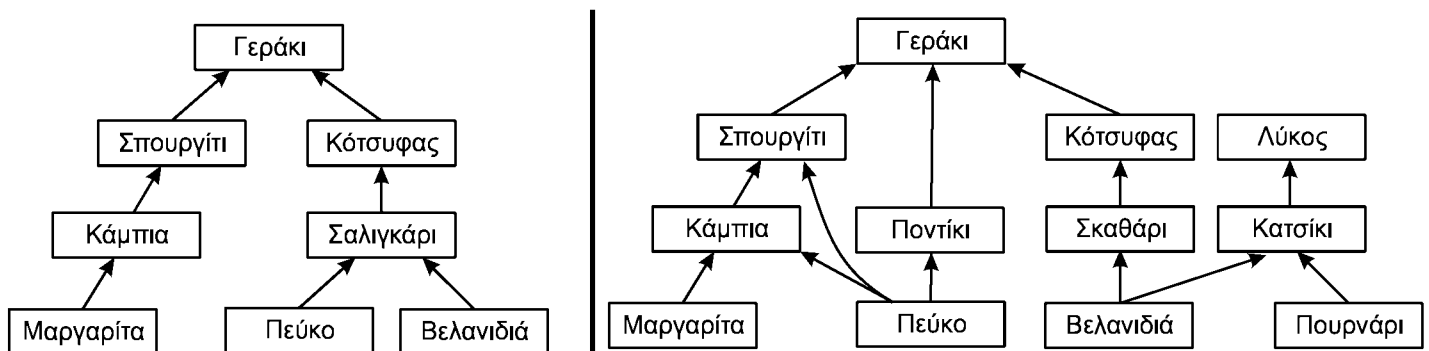
Στα αποτελέσματα των εξετάσεων που τους έγιναν, ανιχνεύτηκε στο αίμα του Κώστα πολύ υψηλή συγκέντρωση ιντερφερονών, ενώ στο αίμα του Γιάννη η συγκέντρωση ήταν σε μηδενικά επίπεδα, όπως φαίνεται στην **εικόνα 2**. Με βάση τα παραπάνω στοιχεία, να βρείτε ποιος από τους δύο, ο Γιάννης ή ο Κώστας, πάσχει από γρίπη και ποιος από βακτηριακή λοίμωξη του αναπνευστικού συστήματος (μονάδες 2); Να αιτιολογήσετε την απάντησή σας (μονάδες 6).

Μονάδες 8

Γ5. Γιατί ο εγκέφαλος παρουσιάζει την τάση να συγκεντρώνει το οινόπνευμα, ακόμη και αν η ποσότητα των αλκοολούχων ποτών, που θα καταναλωθεί, είναι μικρή;

Μονάδες 4**ΘΕΜΑ Δ**

Στην **εικόνα 3**, δίνονται δύο διαφορετικά τροφικά πλέγματα (τροφικό πλέγμα 1 και τροφικό πλέγμα 2), που απεικονίζουν τροφικές σχέσεις των οργανισμών σε δύο χερσαία οικοσυστήματα (οικοσύστημα I και οικοσύστημα II).



Τροφικό πλέγμα 1 του οικοσυστήματος I

Τροφικό πλέγμα 2 του οικοσυστήματος II

Εικόνα 3

Δ1. Να γράψετε στο τετράδιό σας, πόσες τροφικές αλυσίδες υπάρχουν στο κάθε τροφικό πλέγμα (μόνο τον αριθμό τους) από τα παραπάνω.

Μονάδες 4

Δ2. Να γράψετε τις τροφικές αλυσίδες του τροφικού πλέγματος 2, στις οποίες συμμετέχει το πεύκο.

Μονάδες 3

Δ3. Ποιο από τα δύο οικοσυστήματα μπορεί να αποκαταστήσει την ισορροπία του ευκολότερα μετά από μία μεταβολή που μπορεί να συμβεί σε αυτό; (μονάδες 3). Να ονομάσετε το χαρακτηριστικό στο οποίο διαφέρουν τα δύο αυτά οικοσυστήματα και το οποίο συμβάλλει στην ικανότητα των οικοσυστημάτων να αποκαθιστούν την ισορροπία τους; (μονάδες 3).

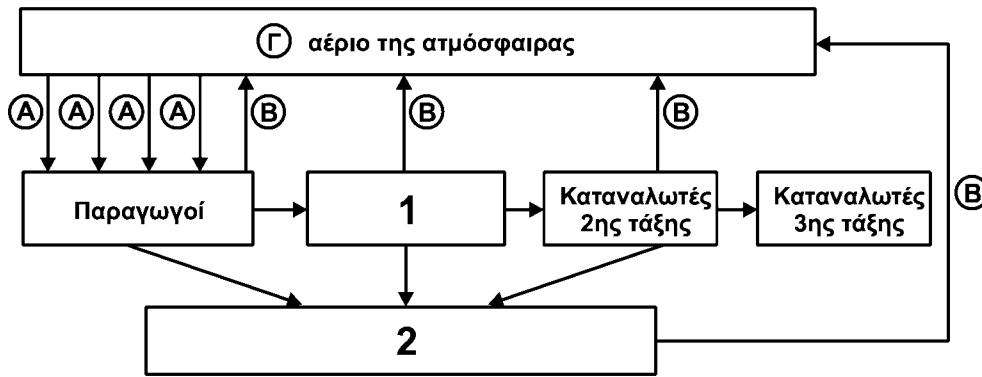
Μονάδες 6

ΑΡΧΗ 5ΗΣ ΣΕΛΙΔΑΣ - ΝΕΟ ΣΥΣΤΗΜΑ Γ΄ ΗΜΕΡΗΣΙΩΝ

- Δ4.** Άζωτο που προσέλαβαν οι **μαργαρίτες** του τροφικού πλέγματος 2, βρέθηκε στο **γεράκι**. Με ποια χημική μορφή προσέλαβαν οι **μαργαρίτες** το άζωτο από το έδαφος;

Μονάδες 2

- Δ5.** Η **εικόνα 4** αναφέρεται στο βιογεωχημικό κύκλο του άνθρακα, όπως αυτός λειτουργεί στο οικοσύστημα II της εικόνας 3.



Εικόνα 4

Να γράψετε στο τετράδιό σας

- τις κατηγορίες οργανισμών που αντιστοιχούν στους αριθμούς 1 και 2. (μονάδες 4).
- ποιο είναι το αέριο Γ στην **εικόνα 4**; (μονάδες 2).
- ποιες είναι οι βιολογικές διαδικασίες που αντιστοιχούν στα βέλη Α και Β; (μονάδες 4).

Μονάδες 10

ΟΔΗΓΙΕΣ (για τους εξεταζομένους)

- Στο **εξώφυλλο** του τετραδίου να γράψετε το εξεταζόμενο μάθημα. Στο **εσώφυλλο πάνω-πάνω** να συμπληρώσετε τα ατομικά στοιχεία μαθητή. Στην **αρχή των απαντήσεών σας** να γράψετε πάνω-πάνω την ημερομηνία και το εξεταζόμενο μάθημα. **Να μην αντιγράψετε** τα θέματα στο τετράδιο και **να μη γράψετε** πουθενά στις απαντήσεις σας το όνομά σας.
- Να γράψετε το ονοματεπώνυμό σας στο πάνω μέρος των φωτοαντιγράφων αμέσως μόλις σας παραδοθούν. **Τυχόν σημειώσεις σας πάνω στα θέματα δεν θα βαθμολογηθούν σε καμία περίπτωση**. Κατά την αποχώρησή σας να παραδώσετε μαζί με το τετράδιο και τα φωτοαντίγραφα.
- Να απαντήσετε **στο τετράδιό σας** σε όλα τα θέματα **μόνο** με μπλε ή **μόνο** με μαύρο στυλό με μελάνι που δεν σβήνει. Μολύβι επιτρέπεται, **μόνο** αν το ζητάει η εκφώνηση, και **μόνο** για πίνακες, διαγράμματα κλπ.
- Κάθε απάντηση επιστημονικά τεκμηριωμένη είναι αποδεκτή.
- Διάρκεια εξέτασης: τρεις (3) ώρες μετά τη διανομή των φωτοαντιγράφων.
- Χρόνος δυνατής αποχώρησης: 10.00 π.μ.

ΣΑΣ ΕΥΧΟΜΑΣΤΕ ΚΑΛΗ ΕΠΙΤΥΧΙΑ**ΤΕΛΟΣ ΜΗΝΥΜΑΤΟΣ****ΤΕΛΟΣ 5ΗΣ ΑΠΟ 5 ΣΕΛΙΔΕΣ**