

ΑΡΧΗ 1ΗΣ ΣΕΛΙΔΑΣ

**ΕΠΑΝΑΛΗΠΤΙΚΕΣ ΑΠΟΛΥΤΗΡΙΕΣ ΕΞΕΤΑΣΕΙΣ  
Γ' ΤΑΞΗΣ ΗΜΕΡΗΣΙΟΥ ΓΕΝΙΚΟΥ ΛΥΚΕΙΟΥ  
ΠΑΡΑΣΚΕΥΗ 9 ΙΟΥΛΙΟΥ 2010  
ΕΞΕΤΑΖΟΜΕΝΟ ΜΑΘΗΜΑ: ΦΥΣΙΚΗ  
ΘΕΤΙΚΗΣ ΚΑΙ ΤΕΧΝΟΛΟΓΙΚΗΣ ΚΑΤΕΥΘΥΝΣΗΣ  
(ΚΑΙ ΤΩΝ ΔΥΟ ΚΥΚΛΩΝ)  
ΣΥΝΟΛΟ ΣΕΛΙΔΩΝ: ΕΠΤΑ (7)**

**ΘΕΜΑ Α**

Στις ημιτελείς προτάσεις Α1-Α4 να γράψετε στο τετράδιό σας τον αριθμό της πρότασης και δίπλα το γράμμα που αντιστοιχεί στη φράση, η οποία τη συμπληρώνει σωστά.

- Α1.** Όταν μια μικρή σφαίρα προσπίπτει πλάγια σε κατακόρυφο τοίχο και συγκρούεται με αυτόν ελαστικά, τότε
- α.** η κινητική ενέργεια της σφαίρας πριν την κρούση είναι μεγαλύτερη από την κινητική ενέργεια που έχει μετά την κρούση.
  - β.** η ορμή της σφαίρας δεν μεταβάλλεται κατά την κρούση.
  - γ.** η γωνία πρόσπτωσης της σφαίρας είναι ίση με τη γωνία ανάκλασης.
  - δ.** η δύναμη που ασκεί ο τοίχος στη σφαίρα έχει την ίδια διεύθυνση με την αρχική ταχύτητα της σφαίρας.

**Μονάδες 5**

- Α2.** Ένα ιδανικό κύκλωμα πηνίου-πυκνωτή εκτελεί ηλεκτρική ταλάντωση. Η ολική ενέργεια του κυκλώματος
- α.** παραμένει συνεχώς σταθερή.
  - β.** μειώνεται στα χρονικά διαστήματα στα οποία φορτίζεται ο πυκνωτής.
  - γ.** είναι μικρότερη από την ενέργεια του ηλεκτρικού πεδίου στον πυκνωτή.
  - δ.** είναι περιοδική συνάρτηση του χρόνου.

**Μονάδες 5**

ΑΡΧΗ 2ΗΣ ΣΕΛΙΔΑΣ

- A3.** Η ροπή αδράνειας ενός στερεού σώματος ως προς άξονα περιστροφής
- είναι διανυσματικό μέγεθος.
  - έχει μονάδα μέτρησης το  $1\text{N}\cdot\text{m}$ , στο S.I.
  - δεν εξαρτάται από την θέση του άξονα περιστροφής.
  - εκφράζει την αδράνεια του σώματος στην περιστροφική κίνηση.

**Μονάδες 5**

- A4.** Κατά τη σύνθεση δύο απλών αρμονικών ταλαντώσεων της ίδιας συχνότητας, που γίνονται γύρω από το ίδιο σημείο στην ίδια διεύθυνση και έχουν διαφορά φάσης  $180^\circ$ , το πλάτος της σύνθετης ταλάντωσης είναι

α.  $A_1 + A_2$

β.  $\sqrt{A_1^2 + A_2^2}$

γ.  $|A_1 - A_2|$

δ.  $\sqrt{|A_1^2 - A_2^2|}$

όπου  $A_1$  και  $A_2$  είναι τα πλάτη των αρχικών ταλαντώσεων.

**Μονάδες 5**

- A5.** Να γράψετε στο τετράδιό σας το γράμμα κάθε πρότασης και δίπλα σε κάθε γράμμα τη λέξη **Σωστό**, για τη σωστή πρόταση, και τη λέξη **Λάθος**, για τη λανθασμένη.

- Κατά την ελαστική κρούση μεταξύ δύο σφαιρών ελαττώνεται η κινητική ενέργεια του συστήματος των σφαιρών.
- Όταν ένας αστέρας συρρικνώνεται λόγω βαρύτητας, η γωνιακή ταχύτητά του λόγω ιδιοπεριστροφής αυξάνεται.

ΑΡΧΗ 3ΗΣ ΣΕΛΙΔΑΣ

- γ. Όταν σε μια ελαστική χορδή δημιουργείται στάσιμο κύμα, τότε όλα τα σημεία της χορδής διέρχονται ταυτόχρονα από τη θέση ισορροπίας τους.
- δ. Οι ακτίνες γ έχουν μήκος κύματος της τάξεως των μερικών mm.
- ε. Ένας λόγος για τον οποίο χάνει ενέργεια ένα κύκλωμα ηλεκτρικών ταλαντώσεων LC είναι ότι εκπέμπει ηλεκτρομαγνητική ακτινοβολία.

**Μονάδες 5**

**ΘΕΜΑ Β**

**B1.** Οι παρακάτω εξισώσεις περιγράφουν ένα μεταβαλλόμενο ηλεκτρικό και ένα μεταβαλλόμενο μαγνητικό πεδίο αντίστοιχα

$$E = 3 \cdot 10^2 \eta\mu 2\pi(8 \cdot 10^{11}t - 4 \cdot 10^3x) \quad (\text{S.I.})$$

$$B = 10^{-6} \eta\mu 2\pi(8 \cdot 10^{11}t - 4 \cdot 10^3x) \quad (\text{S.I.})$$

Οι εξισώσεις αυτές

- α. μπορεί να περιγράψουν ένα ηλεκτρομαγνητικό (H/M) κύμα που διαδίδεται στο κενό.
- β. μπορεί να περιγράψουν ένα H/M κύμα που διαδίδεται σε ένα υλικό.
- γ. δεν μπορεί να περιγράψουν ένα H/M κύμα.

Δίνεται η ταχύτητα του φωτός στο κενό  $c = 3 \cdot 10^8$  m/s.

Να επιλέξετε τη σωστή απάντηση (μονάδες 2).

Να δικαιολογήσετε την επιλογή σας (μονάδες 6).

**Μονάδες 8**

**B2.** Μια ηχητική πηγή εκπέμπει ήχο σταθερής συχνότητας και κινείται με σταθερή ταχύτητα. Στην ευθεία που κινείται η πηγή βρίσκεται ακίνητος παρατηρητής. Η συχνότητα του ήχου που αντιλαμβάνεται ο παρατηρητής όταν τον έχει προσπεράσει είναι κατά 30% μικρότερη από τη συχνότητα που αντιλαμβανόταν, όταν τον πλησίαζε η πηγή. Αν η ταχύτητα του ήχου στον αέρα είναι  $v$ , τότε η ταχύτητα της πηγής είναι

α.  $\frac{2v}{17}$ ,      β.  $\frac{3v}{17}$ ,      γ.  $\frac{4v}{17}$

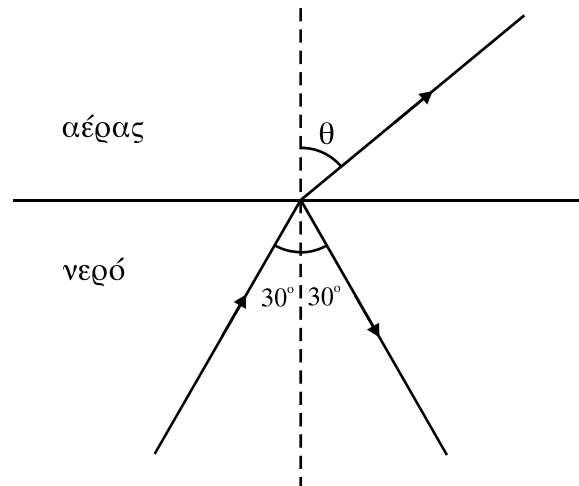
ΑΡΧΗ 4ΗΣ ΣΕΛΙΔΑΣ

Να επιλέξετε τη σωστή απάντηση (μονάδες 2).

Να δικαιολογήσετε την επιλογή σας (μονάδες 6).

**Μονάδες 8**

**B3.** Μονοχρωματική ακτίνα φωτός διαδίδεται στο νερό και προσπίπτει στην ελεύθερη επιφάνειά του με γωνία  $30^\circ$ . Η ακτίνα εξέρχεται στον αέρα, όπως φαίνεται στο σχήμα



Αν  $v$  είναι η ταχύτητα του φωτός στο νερό και  $c$  στον αέρα, τότε ισχύει

α.  $v < \frac{c}{2}$ ,      β.  $v = \frac{c}{2}$ ,      γ.  $v > \frac{c}{2}$

Δίνεται ότι  $\eta\mu 30^\circ = 1/2$

Να επιλέξετε τη σωστή απάντηση (μονάδες 2).

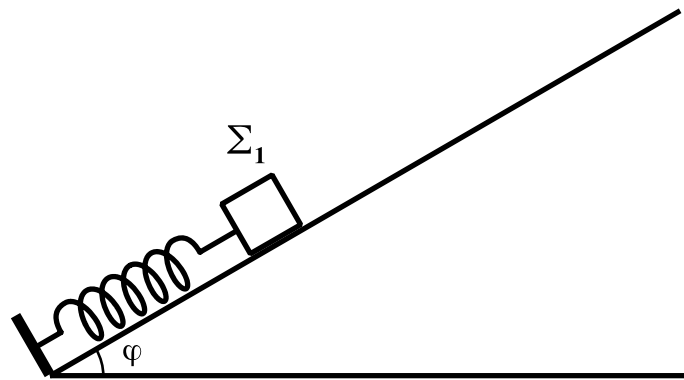
Να δικαιολογήσετε την επιλογή σας (μονάδες 7).

**Μονάδες 9**

**ΘΕΜΑ Γ**

Σώμα  $\Sigma_1$  μάζας  $m_1 = 1\text{kg}$  ισορροπεί πάνω σε λείο κεκλιμένο επίπεδο που σχηματίζει με τον ορίζοντα γωνία  $\varphi = 30^\circ$ . Το σώμα  $\Sigma_1$  είναι δεμένο στην άκρη ιδανικού ελατηρίου σταθεράς  $K = 100\text{N/m}$  το άλλο άκρο του οποίου στερεώνεται στη βάση του κεκλιμένου επιπέδου, όπως φαίνεται στο σχήμα.

ΑΡΧΗ 5ΗΣ ΣΕΛΙΔΑΣ



Εκτρέπουμε το σώμα  $\Sigma_1$  κατά  $d_1 = 0,1\text{m}$  από τη θέση ισορροπίας του κατά μήκος του κεκλιμένου επιπέδου και το αφήνουμε ελεύθερο.

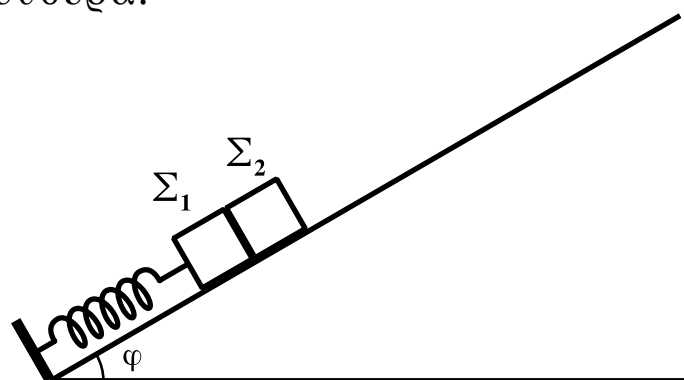
**Γ1.** Να αποδείξετε ότι το σώμα  $\Sigma_1$  εκτελεί απλή αρμονική ταλάντωση.

**Μονάδες 5**

**Γ2.** Να υπολογίσετε τη μέγιστη τιμή του μέτρου του ρυθμού μεταβολής της ορμής του σώματος  $\Sigma_1$ .

**Μονάδες 5**

Μετακινούμε το σώμα  $\Sigma_1$  προς τα κάτω κατά μήκος του κεκλιμένου επιπέδου μέχρι το ελατήριο να συμπιεστεί από το φυσικό του μήκος κατά  $\Delta l = 0,3\text{m}$ . Τοποθετούμε ένα δεύτερο σώμα  $\Sigma_2$  μάζας  $m_2 = 1\text{kg}$  στο κεκλιμένο επίπεδο, ώστε να είναι σε επαφή με το σώμα  $\Sigma_1$ , και ύστερα αφήνουμε τα σώματα ελεύθερα.



**Γ3.** Να υπολογίσετε τη σταθερά επαναφοράς του σώματος  $\Sigma_2$  κατά τη διάρκεια της ταλάντωσής του.

**Μονάδες 6**

ΑΡΧΗ 6ΗΣ ΣΕΛΙΔΑΣ

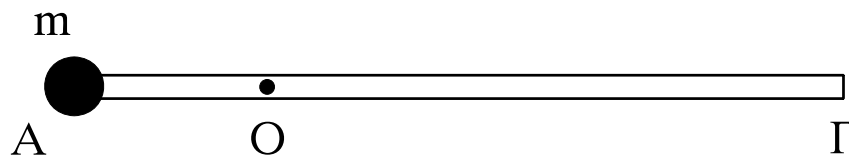
**Γ4.** Να υπολογίσετε σε πόση απόσταση από τη θέση που αφήσαμε ελεύθερα τα σώματα χάνεται η επαφή μεταξύ τους.

**Μονάδες 9**

Δίνονται:  $\eta\mu 30^\circ = 1/2$ ,  $g = 10\text{m/s}^2$

**ΘΕΜΑ Δ**

Λεπτή ομογενής ράβδος ΑΓ μήκους  $\ell$  και μάζας  $M$  μπορεί να στρέφεται γύρω από οριζόντιο άξονα κάθετο στη ράβδο χωρίς τριβές, ο οποίος διέρχεται από το σημείο  $O$  της ράβδου. Η απόσταση του σημείου  $O$  από το  $A$  είναι  $\frac{\ell}{4}$ . Στο άκρο  $A$  της ράβδου στερεώνεται σημειακή μάζα  $m$ , όπως φαίνεται στο σχήμα.



Η ράβδος ισορροπεί σε οριζόντια θέση και δέχεται από τον άξονα δύναμη μέτρου  $F = 20\text{N}$ .

**Δ1.** Να υπολογιστούν οι μάζες  $m$  και  $M$ .

**Μονάδες 5**

Στη συνέχεια τοποθετούμε τον άξονα περιστροφής της ράβδου στο άκρο  $\Gamma$ , ώστε να παραμένει οριζόντιος και κάθετος στη ράβδο, και αφήνουμε το σύστημα ελεύθερο να περιστραφεί από την οριζόντια θέση. Να υπολογίσετε:

**Δ2.** το μήκος  $\ell$  της ράβδου, αν τη στιγμή που αφήνεται ελεύθερη έχει γωνιακή επιτάχυνση μέτρου  $\alpha_{\gamma\omega\nu} = 3,75\text{rad/s}^2$ .

**Μονάδες 7**

**Δ3.** το λόγο της κινητικής ενέργειας της μάζας  $m$  προς τη συνολική κινητική ενέργεια του συστήματος, κατά τη διάρκεια της περιστροφής του συστήματος των δύο σωμάτων.

**Μονάδες 5**

ΑΡΧΗ 7ΗΣ ΣΕΛΙΔΑΣ

**Δ4.** το μέτρο της στροφορμής του συστήματος των δύο σωμάτων, όταν η ράβδος έχει στραφεί κατά γωνία  $\varphi$  ως προς την οριζόντια διεύθυνση τέτοια, ώστε  $\eta\mu\varphi = 0,3$ .

**Μονάδες 8**

Δίνονται: επιτάχυνση βαρύτητας  $g = 10\text{m/s}^2$ , ροπή αδράνειας της ράβδου ως προς άξονα κάθετο στη ράβδο που διέρχεται από το κέντρο μάζας της  $I_{\text{cm}} = \frac{1}{12}M\ell^2$ .

**ΟΔΗΓΙΕΣ ΓΙΑ ΤΟΥΣ ΕΞΕΤΑΖΟΜΕΝΟΥΣ**

1. Στο τετράδιο να γράψετε **μόνον** τα προκαταρκτικά (ημερομηνία, εξεταζόμενο μάθημα, κατεύθυνση). **Να μην αντιγράψετε** τα θέματα στο τετράδιο.
2. Να γράψετε το ονοματεπώνυμό σας στο πάνω μέρος των φωτοαντιγράφων, αμέσως μόλις σας παραδοθούν. **Καμιά άλλη σημείωση δεν επιτρέπεται να γράψετε.** Κατά την αποχώρησή σας να παραδώσετε μαζί με το τετράδιο και τα φωτοαντίγραφα.
3. Να απαντήσετε **στο τετράδιό σας σε όλα** τα θέματα.
4. Να γράψετε τις απαντήσεις σας **μόνο με μπλε ή μόνο με μαύρο στυλό διαρκείας και μόνον ανεξίτηλης μελάνης.** Μπορείτε να χρησιμοποιήσετε μολύβι μόνο για σχέδια, διαγράμματα και πίνακες.
5. **Να μην χρησιμοποιήσετε το χαρτί μιλιμετρέ που βρίσκεται στο τέλος του τετραδίου**
6. Κάθε απάντηση επιστημονικά τεκμηριωμένη είναι αποδεκτή.
7. Διάρκεια εξέτασης: τρεις (3) ώρες μετά τη διανομή των φωτοαντιγράφων.
8. Χρόνος δυνατής αποχώρησης: 09.30 π.μ.

**ΚΑΛΗ ΕΠΙΤΥΧΙΑ**

**ΤΕΛΟΣ ΜΗΝΥΜΑΤΟΣ**